

3.
SINIF



T.C.
MİLLÎ EĞİTİM BAKANLIĞI
ÖLÇME, DEĞERLENDİRME VE SINAV HİZMETLERİ
GENEL MÜDÜRLÜĞÜ

A
KİTAPÇIK TÜRÜ

TED ANKARA KOLEJİ VAKFI ÖZEL İLKOKULU VE ORTAOKULU SEÇME SINAVI
(2'den 3'e Geçenler)
08 HAZİRAN 2014 Saat: 14.00

Adayın Adı ve Soyadı :
Aday Numarası (T.C. Kimlik No) :

DERS ADI	SORU SAYISI	TOPLAM SORU SAYISI	SINAV SÜRESİ (DAKİKA)
TÜRKÇE	20	60	60
MATEMATİK	20		
HAYAT BİLGİSİ	20		

ADAYLARIN DİKKATİNE!

1. Sınav başladıktan sonra ilk **30** dakika dolmadan dışarı çıkmayınız.
2. Sınav sırasında sözlük, hesap makinesi, saat fonksiyonu dışında özellikleri bulunan saat veya çağrı cihazı, cep telefonu, telsiz, radyo ve bilgisayar özelliği bulunan elektronik cihazları yanınızda bulundurmanız, kopya çekmeye teşebbüs etmeniz ve başka adayın sınav evrakını kullanmanız durumunda sınavınız geçersiz sayılacaktır.
3. Soruları ve sorulara verdiğiniz cevapları, yanınızda götürmek amacıyla kaydetmeyiniz; hiçbir şekilde dışarı çıkarmayınız.
4. Cevap kâğıdınızı, sınav süresince hiçbir öğrencinin göremeyeceği şekilde önünüzde bulundurunuz.
5. Sınavın değerlendirilmesi aşamasında, bilgisayar ortamında yapılan kopya analizinde, herhangi bir testten ikili veya toplu kopya tespiti hâlinde ilgili testiniz geçersiz sayılacaktır.

CEVAP KÂĞIDI VE SORU KİTAPÇIĞI İLE İLGİLİ AÇIKLAMALAR

1. Cevap kâğıdınızdaki bilgilerin doğruluğunu kontrol ediniz ve cevap kâğıdınızı imzalayınız.
2. Cevap kâğıdındaki bilgiler size ait değilse veya cevap kâğıdı kullanılmayacak durumdaysa salon görevlilerinin temin edeceği yedek cevap kâğıdına kimliğinizle ilgili bilgileri açıklamalar doğrultusunda yazınız ve kodlayınız.
3. Cevap kâğıdı üzerindeki kodlamaları kurşun kalemle yapınız.
4. Değiştirmek istediğiniz bir cevabı, yumuşak silgiyle cevap kâğıdını örselemeden temizce siliniz ve yeni cevabınızı kodlayınız.
5. Kitapçık türünü cevap kâğıdınızdaki ilgili alana kodlayınız. Bu kodlamayı yapmadığınız veya yanlış yaptığınız takdirde sınavınızın değerlendirilmesi doğru yapılamayacaktır.
6. Cevap kâğıdında **Türkçe, Matematik, Hayat Bilgisi** testleri için üç ayrı sütun bulunmaktadır. Cevaplarınızı, cevap kâğıdındaki ilgili sütunlara, yuvarlağın dışına taşırmadan kodlayınız.
7. **Soru kitapçığı üzerinde yapılıp cevap kâğıdına işaretlenmeyen cevaplar değerlendirme işlemine alınmayacaktır.**
8. Soru kitapçığının sayfalarını kontrol ediniz, baskı hatası var ise değiştirilmesini sağlayınız.
9. Soruların çözümü için size ayrıca boş kâğıt verilmeyecektir. Soru kitapçığının içindeki boş alanları çözümlerinizi için kullanabilirsiniz.
10. Cevaplamaya istediğiniz testin sorusundan başlayabilirsiniz. Cevabını bilmediğiniz sorular üzerinde fazla zaman kaybetmeden diğer sorulara geçiniz. Zamanınız kalırsa bu sorulara daha sonra dönebilirsiniz.
11. Puanlama; her test için yanlış cevap sayısının **üçte biri, doğru cevap sayısından çıkarılarak** elde edilecek geçerli cevaplar üzerinden yapılacağı için cevap kâğıdı üzerinde rastgele cevaplama yapmayınız.
12. **Sınav bitiminde, soru kitapçığı ve cevap kâğıdını salon görevlilerine teslim ediniz.**

BAŞLAYINIZ DENİLMEYEN SORU KİTAPÇIĞINIZI AÇMAYINIZ.

1. Aşağıdaki kelimelerden hangisi sözlükte diğerlerinden sonra gelir?

- A) Kurum B) Kurutucu
C) Kurulmuş D) Kurucu

2. Bugün hava soğuk olduğundan bahçeye çıkamadık.

Bu cümledeki altı çizili kelimenin karşıt anlamlısı aşağıdakilerin hangisinde kullanılmıştır?

- A) Bu yaz havanın çok sıcak olacağı söyleniyor.
B) Sabah dışarı çıktığımda hava çok serindi.
C) Güneşli havalarda şapka takmalıyız.
D) Bacaklarımın ağrısı yağmurlu havalarda artıyor.

3. “Dolu” kelimesi aşağıdakilerin hangisinde diğerlerinden farklı anlamda kullanılmıştır?

- A) Süt ile dolu bardağı almak için uzandı.
B) Otobüs çok dolu olduğu için binemedi.
C) Dolu çekmecenin içinde aradığını bulamadı.
D) Sabaha kadar yağın dolu beni bir türlü uyutmadı.

4. Sinemaya gitmeyi çok isterdim yarın teslim edeceğim ödevimi bitiremiyim.

Yukarıdaki cümlede boş bırakılan yere aşağıdakilerden hangisi getirilemez?

- A) ama B) fakat
C) çünkü D) ancak

5. 1. sonra servise binerek
2. sonra anneannesine gidiyordu
3. okuldan çıktıktan
4. önce yüzmeye

Yukarıdaki kelime gruplarının kurallı ve anlamlı bir cümle oluşturan sıralanışı aşağıdakilerin hangisinde verilmiştir?

- A) 2 – 4 – 1 – 3 B) 3 – 1 – 4 – 2
C) 3 – 2 – 1 – 4 D) 4 – 1 – 2 – 3





6. “Avukat – hukuk” kelimeleri arasındaki anlam ilişkisi aşağıdaki kelime çiftlerinden hangi ikisi arasında vardır?

- A) Doktor – sağlık B) Terzi – kumaş
C) Öğretmen – okul D) Hasta – ilaç


7. Aşağıdakilerden hangisi cümle değildir?

- A) Beni bir daha kızdırma
- B) O da çalışkanmış benim gibi
- C) Çocuk ödevini yarına kadar
- D) Hava çok güzel değil mi

8. Aşağıdakilerden hangisi teknolojinin olumsuz etkileri ile ilgili bir görsel değildir?

- A) 
- B) 
- C) 
- D) 

9.



Yukarıda numaralandırılmış görsellerin, oluş sırasına göre sıralanışı aşağıdakilerden hangisidir?

- A) 1 – 6 – 3 – 4 – 2 – 5
- B) 5 – 6 – 4 – 3 – 2 – 1
- C) 1 – 5 – 4 – 2 – 6 – 3
- D) 2 – 4 – 3 – 5 – 1 – 6

10. Aşağıdaki cümlelerden hangisinde sebep-sonuç ilişkisi vardır?

- A) Basketbol maçındaki alkışlar salonda yankılanıyordu.
- B) Aldığı hediye düşündüğünden büyüktü.
- C) Beklediği haberi aldığı için çok sevindi.
- D) Evlerinden taşınarak daha büyük bir eve yerleştiler.

11. Aşağıdaki cümlelerden hangisinde “Ne zaman?” sorusunun cevabı vardır?

- A) Zaman çok hızlı geçiyor.
- B) Hediye almak için bir araya geldiler.
- C) Ne zaman geleceğini söyledi.
- D) Yarın akşam bize gelecekler.

12. Tolga ve kardeşi Ufuk yıllardır tenis oynuyorlar.

Bu cümleye göre Tolga ve Ufuk için aşağıdakilerden hangisi kesinlikle doğrudur?

- A) En sevdikleri spor tenistir.
- B) En az iki kardeşirler.
- C) Bütün aile sporla ilgilenmektedir.
- D) Anneleri iyi bir tenisçidir.

13. Çiçek açmış meyve ağaçlarıyla dolu bir bahçede yürüyorduk. Çiçeklerden gelen hoş kokular ve bahçenin yakınında bulunan deredeki suyun sesi beni rahatlatıyordu.

Bu paragrafta hangi duyu organı ile algılanan bir ayrıntı yoktur?

- A) Görme
- B) İşitme
- C) Koklama
- D) Tatma

14. Yeliz evden çıktıktan bahçede biraz yürüdü. saksıların içinden fesleğen yapraklarını kopardı. birkaç yaprağı parmaklarının arasında ezdi.

Bu paragrafta noktalı yerlere aşağıdakilerden hangisi sırasıyla getirilmelidir?

- A) önce – önce – sonra
- B) sonra – önce – sonra
- C) önce – sonra – daha sonra
- D) daha sonra – sonra – önce

15. Derelerde, göllerde
Göklerimde sen varsın.
Bulut bulut yükselir,
Yağmur olur yağarsın.

Bu şiirin konusu aşağıdakilerden hangisidir?

- A) Gökyüzü
- B) Dünya
- C) Su
- D) İnsan

16. İki kardeş çok heyecanlıydı. Uzun süredir istedikleri köpek akşam onlarda olacaktı. Heyecanlı bekleyiş bütün gün sürdü. Akşam oldu, kapı çaldı.

Bu paragrafın aşağıdakilerden hangisi ile tamamlanması uygun olmaz?

- A) Evde bütün gün odalarını toplamışlardı.
- B) Bekledikleri misafir yerine arkadaşları Müge gelmişti.
- C) Babaları karşılarındaydı ancak köpek yoktu.
- D) Babaları kucağında köpekle kapıdaydı.

17. Yeryüzündeki her canlı yaşmalı, hiçbir canlı öldürülmemelidir. Oysaki savaşlar insanlara ölüm ve yokluk getirmiştir. Savaşların olmadığı bir dünyaya hep özlem duyulmuştur.

Bu paragraftan aşağıdaki düşüncelerin hangisi çıkarılamaz?

- A) Barışın egemen olduğu bir dünya istenmektedir.
- B) Savaşlar insanlara çok zarar vermiştir.
- C) Açlık dünyadaki çözülmesi gereken en önemli sorundur.
- D) Her canlının yaşama hakkı vardır.

18. Burak güneş doğarken uyanmıştı. Çok mutluydu. Küçük köpeği Kartopu, birden yatağına atlayarak onunla oynamaya başladı. Burak bugün teyzesinin yanına İzmir'e gidecekti. Teyzesini göreceğini düşündükçe heyecandan yerinde duramıyordu. Köpeğini Ankara'da bırakacak olması ise onu üzüyordu.

Bu paragrafta Burak ile ilgili olarak aşağıdakilerin hangisinden söz edilmiştir?

- A) Kartopu ile oynamak için erken kalktığından
- B) Teyzesiyle beraber Ankara'ya gideceğinden
- C) İzmir'e gideceği için üzüldüğünden
- D) Ankara'da kalacak olan köpeği için üzüldüğünden

19. Aşağıdaki cümlelerin hangisinde yazım yanlışı vardır?

- A) Her yıl temmuz ayında tatile giderler.
- B) 15.Haziran.2007 tarihinde karne aldık.
- C) 25.07.2017'de halamın düğünü olacak.
- D) İki haftada bir perşembe günleri toplantı yapıyoruz.

20. Öğretmen, Sibel (1) e sorar:

– Atatürk neyi çok severdi (2)

– Yurdumuzu (3)

Öğretmen:

– Neden (4)

– Çünkü bağımsızlığımız için çok çalıştı (5)

Bu metindeki numaralandırılmış yerlere getirilmesi gereken noktalama işaretleri aşağıdakilerin hangisinde sırasıyla verilmiştir?

	(1)	(2)	(3)	(4)	(5)
A)	(.)	(?)	(.)	(?)	(.)
B)	(?)	(.)	(.)	(?)	(.)
C)	(.)	(?)	(?)	(.)	(.)
D)	(.)	(.)	(.)	(.)	(.)

TÜRKÇE TESTİ BİTTİ.

MATEMATİK TESTİNE GEÇİNİZ.

1. Öğretmen, aşağıda ağırlıkları verilen öğrencileri ağırlıklarına göre en ağırından en hafife doğru sıralayacağı bir tablo hazırlayacaktır.

Sevda : 27 kilogram

Arda : 30 kilogram

Emel : 29 kilogram

Ege : 32 kilogram

Buna göre tabloda baştan ikinci sıradaki öğrenci kim olur?

A) Sevda

B) Arda

C) Emel

D) Ege

2. 4 düzine kalem, 2 deste kalemden kaç fazladır?

A) 2

B) 16

C) 20

D) 28

3. "63" doğal sayısında kaç onluk vardır?

A) 3

B) 6

C) 60

D) 63

4. Ufuk'un 15 tane kırmızı misketi, kırmızı misketten daha fazla sayıda mavi misketi vardır. Buna göre Ufuk'un mavi misketlerinin sayısı aşağıdakilerden hangisi olabilir?

A) 13

B) 14

C) 15

D) 16

5. $\square = 19$, $\triangle = 11$

$$\square - \triangle = \star$$

$\star + \heartsuit = 11$ olduğuna göre, \heartsuit kaçtır?

A) 3

B) 4

C) 7

D) 8

6. \blacktriangle = Birler basamağında 8 rakamı bulunan iki basamaklı en küçük doğal sayıdır.

\blacksquare = Onlar basamağında 3 rakamı bulunan iki basamaklı en büyük doğal sayıdır.

Yukarıda verilen bilgilere göre;

$$\blacksquare - \blacktriangle$$

işleminin sonucu aşağıdakilerden hangisidir?

A) 68

B) 42

C) 21

D) 12

7. Dün ve bugün sekizer sayfa kitap okudum. Okuduğum sayfa sayısı kitabın toplam sayfa sayısının yarısıdır. Kitabım kaç sayfadır?

- A) 8 B) 16 C) 28 D) 32

8. Bir spor salonunda on beşer kişilik 4 sıra vardır. Oynanacak maç için 35 tane bilet satılmıştır.

Buna göre satılmayan bilet kaç tanedir?

- A) 15 B) 25 C) 35 D) 60

9. Bir sınıftaki öğrenciler dörder kişilik 5 gruba ayrıldığında 3 öğrenci artıyor.

Buna göre sınıfta kaç öğrenci vardır?

- A) 17 B) 20 C) 23 D) 33

10. Günde 1 buçuk bardak süt içen bir çocuk, 4 günde kaç bardak süt içen?

- A) 8 B) 6 C) 3 D) 2

11. Aşağıdakilerden hangisinin hem köşesi hem ayrıtı vardır?

A)



Basketbol topu

B)



Silindirik kutu

C)



Teneke kutu

D)



Süt kutusu

12. Aşağıdaki harflerden hangisi, üzerindeki çizgiye göre simetrik değildir?

A)

K

B)

B

C)

V

D)

S

13. $20 - 13 = 7$

Yukarıdaki işlem aşağıdaki problemlerden hangisinin çözümü olabilir?

- A) 13 eksiği 20 olan sayı kaçtır?
 B) Ayça 20 fındığın 13'ünü yedi, geriye kaç fındığı kaldı?
 C) Melisa'nın 20 tane tokası vardı, kuzeni 7 tane daha verdi. Melisa'nın kaç tokası oldu?
 D) Esin kitaplarının 13 tanesini okuyunca, okunmayan 20 kitabı kaldı. Esin'in kaç kitabı vardı?

14. Didem dikdörtgen şeklindeki bir çantanın kenarlarını aynı kalemle ölçtüğünde, uzun kenarı 3, kısa kenarı 2 kalem boyu ölçüyor. Kalemin boyu 6 cm olduğuna göre çantanın tüm kenarlarının toplam uzunluğu kaç cm'dir?

- A) 10 B) 30 C) 60 D) 120

15. Hatice 2 kilogram domates ve 1 kilogram salatalık almış, satıcıya 5 lira vermiş, 50 kuruş para üstü almıştır.

Nesrin 1 kilogram domates almış, satıcıya 2 lira vermiş, 50 kuruş para üstü almıştır.

Yukarıdaki bilgilere göre salatalığın fiyatı aşağıdakilerden hangisidir?

- A) 1 lira 50 kuruş B) 75 kuruş
C) 1 lira D) 50 kuruş

16. Eylem ve Beyza aynı saatte parka gitmişlerdir. Eylem saat 14.00'te parktan ayrılmıştır.

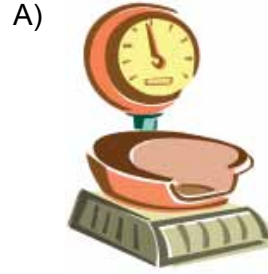
Beyza parkta Eylem'den bir saat az kaldığına göre parktan saat kaçta ayrılmıştır?

- A) 12.00 B) 13.00
C) 14.00 D) 15.00

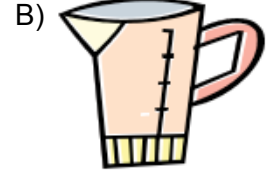
17. Özcan tabaktaki fındıkların yarısını yedi. Özcan 6 fındık yediğine göre tabakta kaç fındık vardı?

- A) 3 B) 9 C) 12 D) 18

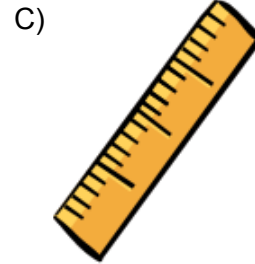
18. Hakan, marketin manav reyonunda çalışmaktadır. Meyveleri tartmak için aşağıdakilerden hangisini kullanır?



terazi



ölçü kabı



cetvel



hesap makinesi

19. 14 fazlası 37 olan sayının 23 eksiği kaçtır?

- A) 0 B) 9 C) 14 D) 46

20. Aşağıdaki tabloda Ceren'in bütün oyuncaklarının türlerine göre sayıları verilmiştir.

Tablo: Türlerine Göre Oyuncak Sayıları

Oyuncak türü	Oyuncak Sayısı
Çiftlik hayvanları	23
Kutu oyunları	4
Bebekler	9
Peluş oyuncaklar	11

Tabloya göre aşağıdakilerden hangisi cevaplandırılabilir?

- A) En pahalı oyuncak türü hangisidir?
B) Çiftlik hayvanlarının türleri nelerdir?
C) Ceren'in toplam kaç oyuncağı vardır?
D) Ceren'in oynamayı en sevdiği oyuncak türü hangisidir?

MATEMATİK TESTİ BİTTİ.
HAYAT BİLGİSİ TESTİNE GEÇİNİZ.

1. Önder oldu Türklüğe, sonsuzluğa yol açtı,
Geçmişe geleceğe ışık saçtı, nur saçtı,
O, bir kudret, hareket ve deha kaynağıydı.

Halil Refet TANIŞIK

Yukarıdaki dizelerde Atatürk'ün hangi özelliği ön plana çıkmıştır?

- A) açık sözlülüğü B) barışseverliği
C) yardımseverliği D) liderliği

2. Ali, kantinden tost almak için sıraya girdi. Sıra ona geldiğinde tost bitmişti. Çok aç olan Ali, kendisinden önce son tost alan Bora'nın elinden tostunu çekti. Durumu gören bir öğretmen çocukların yanına gelerek olayı açıklamalarını istedi.

Yukarıdaki olayın sonucunda Ali, Bora'ya hangisini söylemelidir?

- A) Afiyet olsun. B) Geçmiş olsun.
C) Özür dilerim. D) Kolay gelsin.

3. Ahmet doğayı ve hayvanları çok seviyordu. Hafta sonları ailesiyle birlikte ormanda yürüyor, oradaki canlıları inceliyordu. Bunun da ötesinde beğendiği görüntüleri kalıcı hale getirmek en büyük tutkusuydu.

Ahmet'in ilgi alanları dikkate alındığında okulda seçebileceği en uygun kulüp aşağıdakilerden hangisidir?

- A) Fotoğrafçılık
B) İnsan Hakları
C) El Sanatları
D) Kültür, Tabiat Varlıklarını Koruma

4. (1) Alp gittikleri piknikte çok iyi vakit geçiriyordu. (2) Yan bahçenin sahibinden izin alarak ağaçtan fındık topladı. (3) Fındıkları dişleriyle kırarak yedi, çok lezzetliydi. (4) Sonra babasıyla birlikte uçurtma uçurdular. (5) Annesi onları yemeğe çağırdığında, Alp ellerini yıkayıp hemen sofraya oturdu. (6) Akıllı uçurtmasında kaldığı için masaya herkesin oturmasını beklemeden, hızla yemeğini yedi ve sofradan kalktı.

Yukarıdaki paragrafta Alp'in gösterdiği yanlış davranış ya da davranışlar aşağıdakilerin hangisinde verilmiştir?

- A) Yalnız 3 B) 2 ve 5
C) 2 ve 6 D) 3 ve 6

5. 1. Harp Akademisi'ni bitirdi.
2. Kurmay subay olarak orduya katıldı.
3. Harf inkılabı ile okuma-yazma seferberliğini başlattı.
4. Cumhurbaşkanı seçildi.
5. TBMM'yi açtı.

Atatürk'ün hayatı ile ilgili numaralandırılarak verilen olayların oluş sırasına göre sıralanışı aşağıdakilerden hangisidir?

- A) 1 – 2 – 5 – 4 – 3
B) 1 – 3 – 2 – 5 – 4
C) 2 – 1 – 4 – 3 – 5
D) 2 – 1 – 4 – 5 – 3

6. Okuldaki öğrenci kulüpleri oluşturulurken aşağıdakilerden hangisi dikkate alınmaz?

- A) Okulun fiziksel koşulları
- B) Öğrenci ilgi, istek ve yetenekleri
- C) Okul Müdürünün tercihi
- D) Mevcut öğretmenlerin özellikleri

7. Aşağıdaki günlerden hangisi Atatürk'ü Anma Gençlik ve Spor Bayramı olarak kutlanır?

- A) TBMM'nin açıldığı gün
- B) Atatürk'ün Samsun'a ayak bastığı gün
- C) Cumhuriyetin ilanının kutlandığı gün
- D) Ankara'nın başkent olduğu gün

8. Bu kocaman dünyada
Ülke sayısı çoktur
Oysaki hiçbirinin
Çocuk bayramı yoktur

Altan ÖZYÜREK

Yukarıdaki dördlükte hangi özel günden söz edilmektedir?

- A) Öğretmenler Günü
- B) Anneler Günü
- C) Atatürk'ü Anma Gençlik ve Spor Bayramı
- D) Ulusal Egemenlik ve Çocuk Bayramı

9. Aykut, arkadaşının doğum günü partisine gitmişti. Pasta kesilip yenildikten sonra palyaço tüm çocukları oyuna çağırdı. Aykut, palyaçonun düzenlediği oyuna katılmayı hiç istemiyordu.

Bu durumda Aykut, aşağıdakilerden hangisini yapmalıdır?

- A) İstemese bile oyuna katılmalıdır.
- B) Palyaçoya, oyuna katılmak istemediğini açıklamalıdır.
- C) Annesinin yanına gitmeli ve ağlayarak oyuna katılmak istemediğini söylemelidir.
- D) Doğum günü partisinden ayrılmalıdır.

10. I. Gittiği okullar
II. Yapmaktan hoşlandığı uğraşlar
III. Doğum tarihi ve yeri
IV. Komşularının meslekleri
V. Doktorunun adı soyadı

Yukarıdakilerden hangileri bir öğrencinin özgeçmişinde yer alır?

- A) 1, 2 ve 3
- B) 1, 3 ve 5
- C) 2, 3 ve 4
- D) 4 ve 5

11.



Yukarıdaki resimlerde anlatılmak istenen durumların ortak nedeni;

- I. ormanların azalması
 - II. depremlerin artması
 - III. Dünya'nın hızla dönmesi
- ifadelerinden hangisi ya da hangileridir?

- A) Yalnız I
- B) Yalnız II
- C) I ve II
- D) II ve III

12. Deprem sonrası aşağıdakilerden hangisi yapılmaz?

- A) El feneri kullanmak.
- B) Kibrit yakmak.
- C) Hasarlı binalardan uzak durmak.
- D) Asansör yerine merdiveni tercih etmek.

- 13. I. Pamukkale
- II. Peribacaları
- III. Boğaziçi Köprüsü
- IV. Ankara Kalesi
- V. Çanakkale Boğazı

Yukarıda verilen yerlerden doğal çevreye ait olanlar aşağıdakilerin hangisinde bir arada verilmiştir?

- A) I ve II
- B) III ve IV
- C) I, II ve V
- D) II, III ve V

14.

- I. Balkon demirlerinin boyunun alçak ve demirler arasındaki mesafenin geniş olması
- II. Üst üste konan birçok kitabın bulunduğu kapaksız bir kütüphanenin olması
- III. Bıçak, çatal vb. sivri uçlu aletlerin raflarda keskin tarafları alta gelecek şekilde durması
- IV. Banyo kapısının içeriden ve dışarıdan kilitlenebilir olması

Yukarıdaki uygulamalardan, ev kazalarına neden olabilecekler aşağıdakilerin hangisinde bir arada verilmiştir?

- A) I ve II
- B) I ve IV
- C) II ve III
- D) III ve IV

15. Duygu, ailesiyle birlikte Ankara'dan İstanbul'a gidecekti. O sabah erkenden kalktılar. Ankara garına geldiler. Duygu, orada koşuşan yolcuları gördü. Birçoğunun elinde büyük, ağır bavullar vardı. Bu parçaya göre Duygu, İstanbul'a hangi ulaşım aracı ile gidecektir?

- A) Otobüsle
- B) Trenle
- C) Dolmuşla
- D) Taksiyle

16. a. Fırıncı 1. Sebze ve meyve satar.
b. Terzi 2. Ekmek yapar.
c. Manav 3. Besin yetiştirip üretir.
d. Çiftçi 4. Giysi diker.

Yukarıdaki meslekler ile bu meslek sahiplerinin yaptıkları işlerin eşleştirilmesi aşağıdakilerin hangisinde doğru yapılmıştır?

- A) a-4 , b-3 , c-1 , d-2
B) a-3 , b-2 , c-4 , d-1
C) a-2 , b-1 , c-3 , d-4
D) a-2 , b-4 , c-1 , d-3

17. 1. Kuru gıda
2. Fener
3. Diş fırçası
4. Oyuncak
5. Su
6. Çakı

Deprem çantasında bulunması gerekenler aşağıdakilerin hangisinde bir arada verilmiştir?

- A) 1, 2, 4 ve 6 B) 1, 2, 5 ve 6
C) 1, 3, 4 ve 5 D) 2, 3, 4 ve 5

18. I. Havai fişeg'in sesi
II. Gök gürültüsü
III. Deniz dalgası
IV. Kuzunun sesi
V. Araba kornası

Yukarıdakiler arasında yapay çevreye ait olanlar aşağıdakilerin hangisinde bir arada verilmiştir?

- A) I ve V B) II ve IV
C) I, III ve V D) II, III ve IV

19. Geçen cumartesi akşamıydı. Bilgisayarda oyun oynuyordum. Bir anda elektrik kesildi. Annem salondan "Su bardağı bilgisayarın yanında, sakın yere düşürme!" diye seslendi. Başımı pencereye doğru çevirdiğimde gökyüzündeki yıldızların fazlalığı karşısında şaşkınlık yaşadım.

Yukarıdaki metinde duyu organlarımızın hangi işlevine yer verilmemiştir?

- A) Görme B) İşitme
C) Tatma D) Dokunma

20. Sibel hanım, müziğin sesini açarak mutfığa yöneldi. Çalan telefonun sesini duymamıştı. Bulaşıkların yıkandığını fark edince makinenin içindeki temiz tabak ve bardakları dolaba yerleştirdi.

Buna göre, Sibel hanım ev işlerini yapmada hangi ev aletini kullanmıştır?

- A) Müzik seti B) Buzdolabı
C) Telefon D) Bulaşık makinesi

TEST BİTTİ.

CEVAPLARINIZI KONTROL EDİNİZ.

SINAV SÜRESİNCE UYULACAK KURALLAR

- 1. Adaylar, sınav kurallarına ve salon görevlilerinin tüm uyarılarına uymak zorundadırlar. Kurallara ve uyarılara uymayan adayların sınavları geçersiz sayılacaktır.**
2. Sınav başladıktan sonra adayların salon görevlileri ve birbirleri ile konuşmaları, kalem, silgi vb. şeyleri istemeleri yasaktır.
3. Adaylar sınav süresince, sınav giriş belgesi ile birlikte kimlik belgelerinden birini (nüfus cüzdanı veya pasaport) masalarının üzerinde bulundurmamak zorundadırlar.
- 4. Sınav evraklarını teslim etmeyen, soru kitapçıklarının sayfalarından bir kısmını eksik teslim edenlerin sınavları geçersiz sayılacaktır.**

SALON GÖREVLİLERİNCE SINAV BAŞLAMADAN ÖNCE ADAYLARA YAPILACAK SON UYARI

- Soracağınız bir şey var mı? Varsa, şimdi sorunuz.
- Sınav başladıktan sonra sorularınıza cevap verilmeyecektir.
- Başlama zilini bekleyiniz.
- Hepinize başarılar dileriz.

(Salon başkanı başlama ve bitiş saatini tahtaya yazacaktır.)

Bu kitapçığın her hakkı saklıdır. Hangi amaçla olursa olsun, kitapçığın tamamının veya bir kısmının Millî Eğitim Bakanlığı Ölçme, Değerlendirme ve Sınav Hizmetleri Genel Müdürlüğünün yazılı izni olmadan kopya edilmesi, fotoğraflarının çekilmesi, bilgisayar ortamına alınması, herhangi bir yolla çoğaltılması, yayımlanması veya başka bir amaçla kullanılması yasaktır. Bu yasağa uymayanlar, doğabilecek cezai sorumluluğu ve kitapçığın hazırlanmasındaki mali külfeti peşinen kabullenmiş sayılır.

**08 HAZİRAN 2014 TARİHİNDE YAPILAN TED ANKARA KOLEJİ VAKFI
ÖZEL İLKOKULU VE ORTAOKULU SEÇME SINAVI
3. SINIFLAR CEVAP ANAHTARI**

TÜRKÇE	MATEMATİK	HAYAT BİLGİSİ
1. B	1. B	1. D
2. A	2. D	2. C
3. D	3. B	3. A
4. C	4. D	4. D
5. B	5. A	5. A
6. A	6. C	6. C
7. C	7. D	7. B
8. D	8. B	8. D
9. A	9. C	9. B
10. C	10. B	10. A
11. D	11. D	11. A
12. B	12. D	12. B
13. D	13. B	13. C
14. B	14. C	14. A
15. C	15. A	15. B
16. A	16. B	16. D
17. C	17. C	17. B
18. D	18. A	18. A
19. B	19. A	19. C
20. A	20. C	20. D