

**4.**  
**SINIF**



**T.C.**  
**MİLLÎ EĞİTİM BAKANLIĞI**  
**ÖLÇME, DEĞERLENDİRME VE SINAV HİZMETLERİ**  
**GENEL MÜDÜRLÜĞÜ**

**A**  
**KİTAPÇIK TÜRÜ**

**TED ANKARA KOLEJİ VAKFI ÖZEL İLKOKULU VE ORTAOKULU SEÇME SINAVI**  
**(3'ten 4'e Geçenler)**  
**08 HAZİRAN 2014 Saat: 10.00**

**Adayın Adı ve Soyadı** :  
**Aday Numarası (T.C. Kimlik No)** :

DERS ADI	SORU SAYISI	TOPLAM SORU SAYISI	SINAV SÜRESİ (DAKİKA)
TÜRKÇE	25	75	75
MATEMATİK	25		
HAYAT BİLGİSİ	25		

**ADAYLARIN DİKKATİNE!**

1. Sınav başladıktan sonra ilk **30** dakika dolmadan dışarı çıkmayınız.
2. Sınav sırasında sözlük, hesap makinesi, saat fonksiyonu dışında özellikleri bulunan saat veya çağrı cihazı, cep telefonu, telsiz, radyo ve bilgisayar özelliği bulunan elektronik cihazları yanınızda bulundurmanız, kopya çekmeye teşebbüs etmeniz ve başka adayın sınav evrakını kullanmanız durumunda sınavınız geçersiz sayılacaktır.
3. Soruları ve sorulara verdiğiniz cevapları, yanınızda götürmek amacıyla kaydetmeyiniz; hiçbir şekilde dışarı çıkarmayınız.
4. Cevap kâğıdınızı, sınav süresince hiçbir öğrencinin göremeyeceği şekilde önünüzde bulundurunuz.
5. Sınavın değerlendirilmesi aşamasında, bilgisayar ortamında yapılan kopya analizinde, herhangi bir testten ikili veya toplu kopya tespiti hâlinde ilgili testiniz geçersiz sayılacaktır.

**CEVAP KÂĞIDI VE SORU KİTAPÇIĞI İLE İLGİLİ AÇIKLAMALAR**

1. Cevap kâğıdınızdaki bilgilerin doğruluğunu kontrol ediniz ve cevap kâğıdınızı imzalayınız.
2. Cevap kâğıdındaki bilgiler size ait değilse veya cevap kâğıdı kullanılmayacak durumdaysa salon görevlilerinin temin edeceği yedek cevap kâğıdına kimliğinizle ilgili bilgileri açıklamalar doğrultusunda yazınız ve kodlayınız.
3. Cevap kâğıdı üzerindeki kodlamaları kurşun kalemle yapınız.
4. Değiştirmek istediğiniz bir cevabı, yumuşak silgiyle cevap kâğıdını örselemeden temizce siliniz ve yeni cevabınızı kodlayınız.
5. Kitapçık türünü cevap kâğıdınızdaki ilgili alana kodlayınız. Bu kodlamayı yapmadığınız veya yanlış yaptığınız takdirde sınavınızın değerlendirilmesi doğru yapılamayacaktır.
6. Cevap kâğıdında **Türkçe, Matematik, Hayat Bilgisi** testleri için üç ayrı sütun bulunmaktadır. Cevaplarınızı, cevap kâğıdındaki ilgili sütunlara, yuvarlağın dışına taşımadan kodlayınız.
7. **Soru kitapçığı üzerinde yapılıp cevap kâğıdına işaretlenmeyen cevaplar değerlendirme işlemine alınmayacaktır.**
8. Soru kitapçığının sayfalarını kontrol ediniz, baskı hatası var ise değiştirilmesini sağlayınız.
9. Soruların çözümü için size ayrıca boş kâğıt verilmeyecektir. Soru kitapçığının içindeki boş alanları çözümlerinizi için kullanabilirsiniz.
10. Cevaplamaya istediğiniz testin sorusundan başlayabilirsiniz. Cevabını bilmediğiniz sorular üzerinde fazla zaman kaybetmeden diğer sorulara geçiniz. Zamanınız kalırsa bu sorulara daha sonra dönebilirsiniz.
11. Puanlama; her test için yanlış cevap sayısının **üçte biri, doğru cevap sayısından çıkarılarak** elde edilecek geçerli cevaplar üzerinden yapılacağı için cevap kâğıdı üzerinde rastgele cevaplama yapmayınız.
12. **Sınav bitiminde, soru kitapçığı ve cevap kâğıdını salon görevlilerine teslim ediniz.**

**BAŞLAYINIZ DENİLMEDEN SORU KİTAPÇIĞINIZI AÇMAYINIZ.**

1. “Toplamak” kelimesi hangi cümlede diğerlerinden farklı anlamda kullanılmıştır?

- A) Bütün gün odamı topladım.  
B) Sınıftaki dolabının içini topladı.  
C) Ağaçtan taze meyve topladı.  
D) Dağınık bıraktığı dosyaları topladım.

2. “Bugün çok rüzgâr var.” cümlesindeki altı çizili kelimenin yerine aşağıdakilerden hangisi getirilirse cümlenin anlamı değişmez?

- A) Yel  
B) Hava  
C) Bulut  
D) Yağmur

3. I- Kara kargalar gökyüzünde belirmeye başladı.

II- Geminin arkasından baktığında kara görünüyordu.

III- Kara kışa rağmen yollar açıktı.

IV- Bir karış kara parçası için savaşıyorlardı.

“Kara” kelimesi yukarıdaki cümlelerin hangilerinde aynı anlamda kullanılmıştır?

- A) I ve III  
B) I ve IV  
C) II ve III  
D) II ve IV

4. Paketi açınca hayal kırıklığı yaşadı.

Bu cümledeki altı çizili kelime grubunun cümleye kattığı anlam, aşağıdakilerin hangisinde vardır?

- A) Sonuçları büyük bir merakla bekliyordu.  
B) Arkadaşı gelmeyince üzüntü duydu.  
C) Karanlıkta karşıma çıkınca beni korkuttun.  
D) Kardeşi oyuncağını kırınca ona çok kızdı.

5. 1. beklemeyen  
2. yaptığı  
3. gerçek dosttur  
4. karşılığını  
5. iyiliğin

Numaralandırılmış kelime ve kelime gruplarının anlamlı ve kurallı bir cümle oluşturan sıralanışı aşağıdakilerden hangisidir?

- A) 4 – 2 – 1 – 5 – 3  
B) 3 – 4 – 5 – 2 – 1  
C) 2 – 5 – 4 – 1 – 3  
D) 1 – 3 – 2 – 5 – 4

6. “Hamburger veya tost yiyeceğim.” cümlesiyle aynı anlama gelen cümle aşağıdakilerden hangisidir?

- A) Ya hamburger ya tost yiyeceğim.  
B) Hem hamburger hem tost yiyeceğim.  
C) Ne hamburger ne de tost yiyeceğim.  
D) Hamburger ve tost yiyeceğim.

7. “Kadar” kelimesi aşağıdaki cümlelerin hangisine karşılaştırma anlamı katmıştır?

- A) Film bitene kadar bekledi.
- B) Dersin sonuna kadar hiç konuşmadı.
- C) Buraya kadar gelmene gerek yoktu.
- D) Saçları Melis kadar güzel değil.

8. Aşağıdakilerden hangisinde abartılı bir ifade vardır?

- A) Onu o kadar çok özlemişim ki yanından ayrılmak istemedim.
- B) Gökyüzüne kadar uzanan kollarıyla çok büyük görünüyordu.
- C) Bağıra bağıra şarkı söylemeyi çok seviyorum.
- D) Arkadaşıma kucak dolusu çiçekle “Geçmiş olsun.” dedim.

9. Müzik dinlerken televizyonun sesini açtığı için odama gittim.

Bu cümlede aşağıdaki sorulardan hangisinin cevabı vardır?

- A) Nasıl?                      B) Nerede?
- C) Niçin?                      D) Kiminle?

10. Ömer cumartesi günü hasta olmasına rağmen sahadaki oyunuyla takımını yalnız bırakmadı.

Bu cümleden aşağıdakilerden hangisi kesinlikle çıkarılır?

- A) Ömer çok iyi bir sporcudur.
- B) Hasta olduğu için ilaç almaktadır.
- C) Ömer’in takımı maçı kazanmıştır.
- D) Hafta sonu maçta oynamıştır.

11. Aşağıdaki altı çizili kelimelerden hangisi cümleye “üzülme” anlamı katmıştır?

- A) Seni görmek için ne kadar uğraştığımı anlatamam.
- B) Bu saatte geç kalmam imkânsız.
- C) Ne yazık ki seninle oraya gelemeyeceğim.
- D) Anlaşılmamak beni çok kızdırdı.

12. Aşağıdakilerden hangisi bir metnin giriş cümlesi olabilir?

- A) Giysi yapmak için kumaş dokumak, kumaş dokumak için iplik üretmek gerekir.
- B) Bunun nedeni çok televizyon izlemesiydi.
- C) Yapıları ısıtmak için de pencereleri kapalı tutmalı, giriş kapılarını ihtiyacımız dışında açmamalıyız.
- D) En sonunda bekledikleri hediye almışlardı.

13. (I) Yurdumuz yeryüzünün en güzel iklimi olan ülkesidir. (II) Dünya üzerinde çok çeşitli ürünlerin yetiştirilmesine elverişli bir yerde bulunmaktadır. (III) İtalya'ya giden herkes Türkiye'yi de görmek istemektedir. (IV) Dünya'nın birçok ülkesinde görülmeyen dört mevsim Türkiye'de yaşanır. (V) Doğal güzellikleri, tarihî eserleri, konuksever ve barışçı insanlarıyla çok güzel bir ülkedir.

Yukarıdaki paragrafta numaralandırılmış cümlelerden hangisi anlatımın akışını bozmaktadır?

- A) II      B) III      C) IV      D) V

14. (I) Minik su kaplumbağası üstüne gelen güneş ışınlarının etkisiyle kıpırdandı. (II) "Günaydın" dedi sahibine gülümseyerek. (III) Su kaplumbağasının sahibi Arda, o sırada sütünü içiyordu. (IV) Kaplumbağasının da acıktığını düşünerek ona yem verdi.

Yukarıdaki paragrafta numaralandırılmış cümlelerden hangisindeki olay gerçek hayatta görülemez?

- A) I      B) II      C) III      D) IV

15. Güneş yine can verir  
Sulara, topraklara,  
Yer, gök sevinç içinde  
Kavuşurlar bahara

Bu dördüğüün bütününde aşağıdakilerin hangisinden söz edilmektedir?

- A) Güneşin doğuşundan  
B) Toprağın canlanışından  
C) Yağmurun oluşumundan  
D) İlkbaharın gelişinden

16. Televizyonu yakından izlemek, gözler için zararlıdır. İnsanda görme bozukluklarına yol açar. Bunu engellemek için televizyon belli bir uzaklıktan izlenmelidir.

Bu parçanın ana fikri aşağıdakilerden hangisidir?

- A) Televizyon belli kurallara uyularak izlenmelidir.  
B) Görme bozukluklarının birçok nedeni vardır.  
C) Televizyon izlenen yer iyi aydınlatılmalıdır.  
D) Televizyonu sürekli izlemek zararlıdır.

17. Ey şimdi süzgün, rüzgârlarda dalgalı,  
Barışın güvercini, savaşın kartalı  
Yüksek yerlerde açan çiçeğim.  
Senin altında doğdum.  
Senin dibinde öleceğim.

Tarihim, şerefim, şiirim, her şeyim:  
Yeryüzünde yer beğen!  
Nereye dikilmek istersen,  
Söyle, seni oraya dikeyim!

Arif Nihat Asya

Yukarıdaki şiirde şair hangi duygu  
içindedir?

- A) Gurur B) Yalnızlık  
C) Hayal kırıklığı D) Öfke

18. 1- Köylülerin ihtiyaç duyduklarında  
yardım alabilecekleri biri vardı artık.  
2- İşe başlaması köyde büyük sevinç  
yarattı.  
3- Nesrin hemşire de kendine ihtiyaç  
duyulduğunda herkesin yardımına  
koşuyordu.  
4- Nesrin, okuldan mezun olduktan  
sonra köydeki sağlık ocağında işe  
başladı.

Numaralandırılmış cümleler, olayların  
oluş sırasına göre nasıl sıralanmalıdır?

- A) 1 – 3 – 2 – 4 B) 2 – 1 – 3 – 4  
C) 2 – 4 – 1 – 3 D) 4 – 2 – 1 – 3

19. Bir kuzu aldım bu yaz,  
Tüyleri gayet beyaz  
Gözleri kara kara  
Maskara mı maskara

Yukarıdaki dizelerde kuzunun hangi  
özelliğinden söz edilmemiştir?

- A) Renginden B) Gözünden  
C) Büyüklüğünden D) Huyundan

20. Bir adamın tavuğu, masal bu ya,  
Altın yumurtlarmış her sabah.  
Bir yumurta yerine bir altın değil,  
Koskoca bir altın yumurta  
Adam bir gün demiş ki kendi kendine  
“Bir hazine olsa gerek tavuğun içinde.”  
Hemen aldığı gibi bıçağı,  
Kesmiş tavuğu.  
Karnına bakmış:  
Ne altın var ne gümüş  
Öteki tavuklar neyse o da bu.  
Üstelik kaybetmiş tavuğu.  
Tavuğu kesen kişi ile ilgili aşağıdakilerden  
hangisi söylenebilir?

- A) Çok uzun süre aç kalmıştır.  
B) Sahip olduklarıyla yetinmemektedir.  
C) Tavuğu satmayı düşünmektedir.  
D) Tavuk beslemekten vazgeçmiştir.

21. Aşağıdaki cümlelerin hangisinde gereksiz kullanılmış bir kelime vardır?

- A) Kütüphaneden aldığım kitabı geri iade ettim.
- B) Koşa koşa giderken ayağım takıldı.
- C) Bu iş için bir yıl bir ay çalıştı.
- D) Funda, Ömer, Nisa ve Selçuk oyuncakçıya gittiler.

22. Minik fare, yuvasından çıkıp mutfağa kaçtı.

1      2      3      4      5

Bu cümlede numaralandırılmış kelimelerden bir varlığın adı olanlar, aşağıdakilerin hangisinde bir arada verilmiştir?

- A) 1 – 2 – 5
- B) 1 – 4 – 5
- C) 2 – 3 – 4
- D) 2 – 3 – 5

23. Bu defter senin, öteki Nazlı'nın.

Bu cümlede adın yerine kullanılan kelimeler, aşağıdakilerin hangisinde bir arada verilmiştir?

- A) Bu – defter
- B) Senin – öteki
- C) Defter – öteki
- D) Senin – Nazlı'nın

24. “Yağmur” kelimesi aşağıdaki eklerden hangisini alırsa bir tür giyecek anlamı kazanır?

- A) –suz
- B) –cu
- C) –luk
- D) –lu

25. Aşağıdaki cümlelerin hangisini söyleyen kişi cevap bekliyordur?

- A) Seninle ne yapacağım bilmiyorum
- B) Elif öğretmenimizi gördün mü
- C) Topu sen almıştın
- D) Ne ben ne de sen oraya gitmeyeceğiz

**TÜRKÇE TESTİ BİTTİ.  
MATEMATİK TESTİNE GEÇİNİZ.**

1. 538 sayısında 5'in basamak değeri, 3'ün basamak değerinden kaç fazladır?

- A) 530 B) 470 C) 47 D) 2

2. İrem, "38, 85, 47, 23" sayılarının basamaklarındaki rakamların yerlerini değiştiriyor. Oluşturduğu sayılar, küçükten büyüğe doğru sıralandığında hangisi baştan ikinci sayı olur?

- A) 38 B) 47 C) 58 D) 74

3. 4, 1, 8 rakamları bir kez kullanılarak kaç tane üç basamaklı çift doğal sayı oluşturulabilir?

- A) 1 B) 2 C) 3 D) 4

4. Selçuk, Erdem ve Suat'ın toplam 40 tane oyuncacı vardır. Selçuk'un 8, Suat'ın Selçuk'tan 16 fazla oyuncacı vardır. Buna göre, aşağıdakilerden hangisi söylenemez?

- A) Selçuk ve Erdem'in oyuncak sayıları eşittir.  
B) Suat'ın oyuncak sayısı, Erdem'in oyuncak sayısından fazladır.  
C) Suat, Selçuk'a 8 oyuncacı verdiğinde, ikisinin oyuncak sayısı eşit olur.  
D) Selçuk ve Erdem'in oyuncaklarının toplam sayısı, Suat'ın oyuncak sayısından fazladır.

$$5. \bullet + \blacktriangle + \blacktriangle + \blacktriangle = 15$$

$$\bullet + \blacktriangle + \blacktriangle = 12$$

Yukarıdaki işlemlere göre  $\bullet - \blacktriangle$  aşağıdakilerden hangisidir?

- A) 2 B) 3 C) 6 D) 12

6. 17 öğrenci arka arkaya tek sıra oluyor. Zeynep baştan beşinci kişidir. Zeynep ile Cem'in arasında 7 öğrenci vardır. Buna göre Cem, sondan kaçınıcı sıradadır?

- A) 5 B) 6 C) 12 D) 13

7. Kitabımdaki soruların önce yarısını, sonra 21 tanesini çözdüm. Kitabımda çözülmeyen 68 soru kaldı. Kitabımdaki toplam soru sayısı aşağıdakilerden hangisidir?

- A) 89 B) 94 C) 168 D) 178

8. "6 tane daha kurabiyem olsaydı 3 arkadaşıma dörder kurabiye verecektim." diyen bir çocuğun kaç tane kurabiyesi vardır?

- A) 6 B) 16 C) 18 D) 24

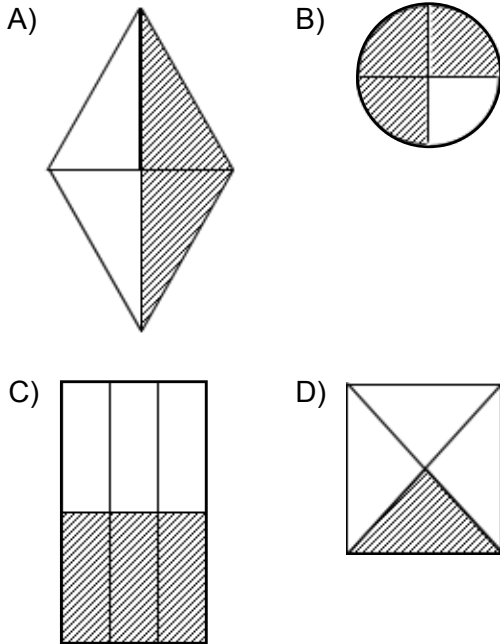
9. 10 kilogram portakalın bir kısmı 3 tane ikişer kilogramlık poşetlere bölünüyor. Kalan portakallardan yarımşar kilogramlık kaç tane poşet oluşturulur?

- A) 4 B) 6 C) 7 D) 8

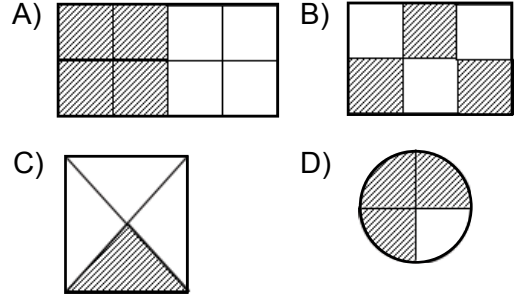
10. 49 kilogramlık toz şekerler ikişer ve beşer kilogramlık paketlere dolduruluyor. Kullanılan 2 ve 5 kilogramlık paketlerin sayısı eşit olduğuna göre toplam kaç paket kullanılmıştır?

- A) 7 B) 8 C) 14 D) 16

11. Aşağıdaki şekillerden hangisinde çeyrek taranmıştır?



12. Aşağıdaki şekillerden hangisinin taralı kısmı, bütünü yarısından fazlasını göstermektedir?



13. Aşağıdaki geometrik cisimlerden hangisinin yüzeylerinin tamamı karesel bölgedir?

- A) Kare prizma  
B) Küp  
C) Dikdörtgenler prizması  
D) Koni

14. Aşağıdaki harflerden hangisinde paralel doğrulara örnek yoktur?

- A) H B) M C) Y D) E

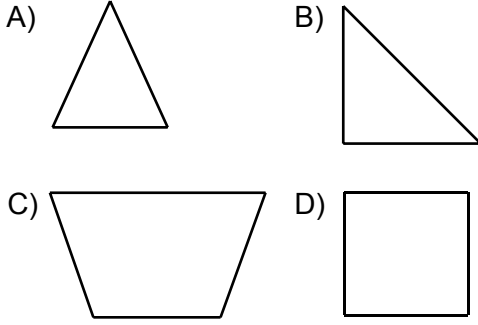
15. Yandaki süt kutusunun köşeleri aşağıdakilerden hangisine örnektir?



- A) Doğru parçası B) Düzlem  
C) Nokta D) Yüzey



16. Aşağıdaki düzlemsel şekillerden hangisinin açılarının tümü dar açıdır?



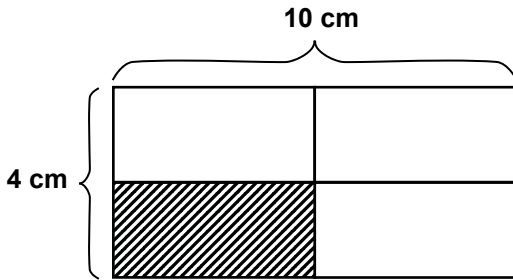
17. Saat 16.30'u gösterdiğinde akrep ile yelkovan arasında oluşan açı aşağıdakilerden hangisidir?

- A) Geniş açı B) Dik açı  
C) Doğru açı D) Dar açı

18. 4 metre kumaşın 225 cm'si satılırsa geriye kaç cm kumaş kalır?

- A) 75 B) 175 C) 225 D) 275

19.



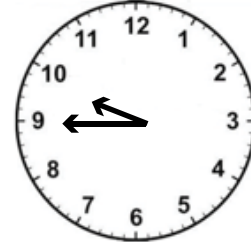
Bir kâğıt yukarıdaki şekilde gösterildiği gibi dört eşit dikdörtgene ayrılmıştır. Buna göre taralı bölgenin çevresi kaç cm'dir?

- A) 10 B) 14 C) 20 D) 28

20. Emre marketten 5 TL'ye kek, 2 TL 40 Kr'a meyve suyu aldı. Satıcıya 20 TL verdiği göre, kaç lira para üstü alacaktır?

- A) 13 TL 20 Kr  
B) 7 TL 40 Kr  
C) 12 TL 60 Kr  
D) 2 TL 60 Kr

21.



Yukarıdaki saat, 1 saat 50 dakika sonra kaç gösterir?

- A) 11.35 B) 11.45  
C) 12.00 D) 12.35

22. ★ + 108 < 325

Yukarıdaki eşitsizlikte ★ yerine yazılabilecek en büyük doğal sayı kaçtır?

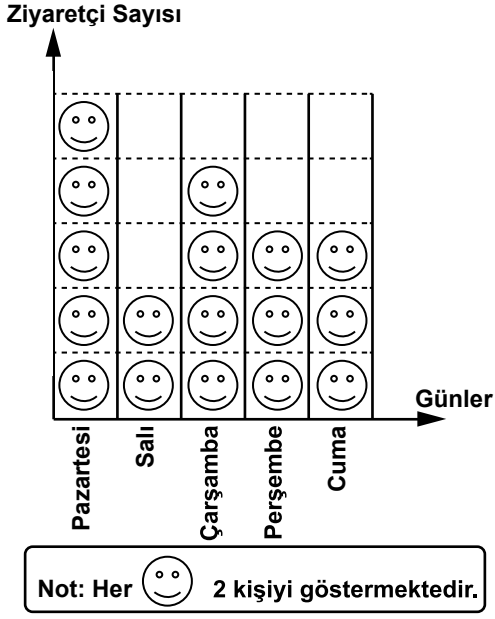
- A) 216 B) 217 C) 218 D) 219

23. Boş bir şişeye 9 yarım litre ve 10 çeyrek litre su dolduruluyor. Şişeye doldurulan su kaç litredir?

- A) 6 B) 7 C) 14 D) 19

24.

Grafik: Müzeyi Ziyaret Eden Kişi Sayısı



Verilen grafiğe göre aşağıdaki sorulardan hangisi yanıtlanabilir?

- A) Müze hafta içi en fazla hangi gün ziyaret edilmiştir?
- B) Müzeyi hafta sonu ziyaret eden kişi sayısı kaçtır?
- C) Müzede her gün kaç görevli çalışmaktadır?
- D) Müze hangi gün daha uzun süre açık kalmaktadır?

25. Okan film başlamadan 10 dakika önce, saat 14.55'te sinema salonuna girmiştir. Buna göre, film saat kaçta başlayacaktır?

- A) 13.05
- B) 14.45
- C) 15.05
- D) 15.15

**MATEMATİK TESTİ BİTTİ.  
HAYAT BİLGİSİ TESTİNE GEÇİNİZ.**

## 1. Sevgili çocuklar,

Atatürk'ün bizlere emanet ettiği bu vatani korumak, hep daha ileriye ve iyiye taşımak öncelikle siz çocukların olmak üzere hepimizin görevidir. Hepinizin ne kadar büyümüş olduğunuzu, öğrenmeye hazır ve istekli bakışlarınızı, yeni öğretim yılının heyecanını yaşadığınızı görüyorum. Biliyorum ki bu öğretim yılında da çok çalışarak Atatürk'e ve bu vatana layık çocuklar olacaksınız.

Yukarıda bir okul müdürünün törende yaptığı konuşmanın bir bölümü verilmiştir. Buna göre okulda aşağıdakilerden hangisi kutlanmaktadır?

- A) İlköğretim Haftası
- B) Atatürk Haftası
- C) Cumhuriyet Bayramı
- D) Zafer Bayramı

2. Okulda yapılan resmî bir törende ilk olarak aşağıdakilerden hangisi yapılır?

- A) İstiklal Marşı okunur.
- B) Saygı duruşunda bulunulur.
- C) Günün anlam ve önemiyle ilgili konuşmalar yapılır.
- D) Halk oyunları gösterileri yapılır.

3. Kahramanlar bucağında uyandın,  
Şehitlerin kanlarıyla boyandın.  
Nice düşman kalesine uzandın.  
Sana selam, ey şanlı .....

İbrahim Alaettin GÖVSA

Yukarıdaki dördlükte noktalı yere aşağıdakilerden hangisi getirilmelidir?

- A) Türk Bayrağı
- B) Asker
- C) Atatürk
- D) Anıtkabir

4. Aşağıdakilerden hangisi Atatürk'ün önderliğinde ülkemizde yapılan değişikliklerden değildir?

- A) Şapka Kanunu
- B) Soyadı Kanunu
- C) 4+4+4 Eğitim Sistemi
- D) Latin Harflerinin Kabulü

## 5. Sınıf kitaplığını düzeltme ve kitap alışverişini takip etme görevi, aşağıdaki kulüplerden hangisininindir?

- A) Tüketicilik ve Basın Yayın
- B) Sağlık ve Temizlik
- C) Kütüphanecilik
- D) Gazetecilik

## 6. 30 Ağustos'ta kutladığımız bayram aşağıdakilerden hangisidir?

- A) Kurban Bayramı
- B) Zafer Bayramı
- C) Ramazan Bayramı
- D) Atatürk'ü Anma, Gençlik ve Spor Bayramı

## 7. Burak duygu ve düşüncelerini yazıya dökmeyi seviyordu. Her gün yaşadıklarını günlüğüne yazıyor, hayalinde yarattığı kişilerden yola çıkarak öyküler oluşturuyordu. Başından geçen ilginç olayları anı defterine yazıyor sonra da bunları defalarca okuyor, her okuduğunda ayrı keyif alıyordu.

Bu özelliklerine bakarak Burak hangi mesleği seçebilir?

- A) Bilim insanı
- B) Öğretmen
- C) Avukat
- D) Yazar

8. Aşağıdakilerden hangisi cumhuriyetin ilanından önce yaşanmış bir olay olamaz?

- A) Çiftçi Mustafa Efendi ürünlerini pazarda sattı.
- B) Arap harflerini çocuklara öğretirken çok zorlandı.
- C) Başındaki fesi çıkararak sobanın önünde oturdu.
- D) Babası yeni doğan kardeşinin nüfus cüzdanını çıkarttı.

9. Aşağıdaki cümlelerin hangisinde sorumluluk ifadesi yoktur?

- A) Her sabah yatağımı toplarım.
- B) Yatmadan önce mutlaka müzik dinlerim.
- C) Alışveriş yaparken anneme yardım ederim.
- D) Babamla birlikte ayakkabılarımı boyarım.

10. Murat ertesi gün teslim edeceği matematik ödevini tamamlamaya çalışıyordu. Bir soruyu çözemedi. Bir türlü ödevinde ilerleyemiyordu. Matematikle ilgili bir sorusu olduğunda her zaman babasına sorardı ancak o gün babası evde yoktu. Annesine sormayı aklına bile getirmede. Murat'ın sıkıntılı durumunu gören annesi soruyu kendisine sorabileceğini söyledi. Murat soruyu annesinin çözdüğünü görünce çok şaşırıldı.

Yukarıdaki paragrafa göre Murat'la ilgili aşağıdakilerden hangisi söylenir?

- A) Annesine karşı önyargılıdır.
- B) En çok babasını sevmektedir.
- C) Düzenli ders çalışma alışkanlığı yoktur.
- D) Başarısız olacağından korkmaktadır.

11. Dünya ve Güneş'le ilgili aşağıda verilen ifadelerden hangisi doğrudur?

- A) Dünya'nın Güneş etrafında yılda dört kez dönmesi sonucu mevsimler oluşur.
- B) Dünya kendi etrafındaki dönüşünü 24 saatte tamamlar.
- C) Dünya, güneş etrafında sadece gündüzleri döner.
- D) Dünya çok hızlı döndüğünde doğal afetler oluşur.

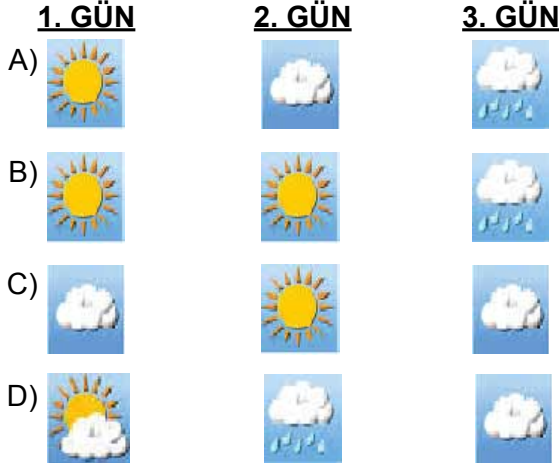
12. (1) Eda sabahın ilk ışıklarıyla uyandı, pencereden dışarıya baktı. (2) Çiçekleriyle bembeyaz olmuş ağaçlar ve üzerinde ötüşen kuşlarıyla köy ne kadar güzel bir yerdi. (3) Üzerine fazla kalın olmayan ama kendini üşütmeyecek kıyafetlerini giyerek dışarıya çıktı. (4) Günler uzamaya başladığı için dışarıda daha uzun süre oynayabilecekti. (5) Başını yukarı kaldırıp gökyüzüne baktığında sıcak ülkelere göç eden göçmen kuşları gördü.

Yukarıdaki parçada hangi cümle, parçanın bütününde anlatılan mevsimin özelliğine ters düşmektedir?

- A) 2
- B) 3
- C) 4
- D) 5

13. Haftanın son günü pikniğe gittik. Hava o kadar güzeldi ki çimenlerin üzerinde saatlerce oynadık. Ertesi gün sabah yağmur yağacak gibi hava kapalıydı. Bir sonraki gün okula giderken şemsiyemi kullanmak zorunda kaldım.

Bu metindeki günlere ait hava gözlem grafiği aşağıdakilerden hangisidir?



14. "İlkbahar mevsiminin son ayındayız." diyen bir çocuk hangi ayı belirtmektedir?

- A) Eylül  
B) Şubat  
C) Mayıs  
D) Kasım

15. Aşağıdakilerden hangisi evde deprem için alınacak önlemlerden biri değildir?

- A) Yatakları büyük pencerelerden uzaklaştırmak  
B) Kırılacak eşyaları en alt raflara yerleştirmek  
C) Dolap, kitaplık gibi mobilyaları duvara sabitlemek  
D) Sıcak ve kuru kalacak şekilde giyinmek

16. Aşağıdakilerden hangisi mevsim değişikliklerine bağlı olarak ortaya çıkan bir durumdur?

- A) Bir günün 24 saat olması  
B) Gece ve gündüzün oluşması  
C) Dünya'nın Güneş etrafında dönmesi  
D) Gece ve gündüz süresinin değişmesi

17. Aşağıdaki durumların hangisinde madde katı hâlden sıvı hâle geçer?

- A) Dondurmanın erimesi  
B) Meyve suyunun donması  
C) Kolonyanın buharlaşması  
D) Çaydanlıktaki suyun kaynaması

18.



LAKLAK



TOPAÇ



PSP



AKÜLÜ  
ARABA



MİSKET

Yukarıdaki görselleri kullanan bir öğrenci hangi konuda ödev hazırlıyor olabilir?

- A) İletişim araçlarındaki değişiklikler  
B) Geçmişten günümüze oyuncaklar  
C) Cumhuriyetin getirdiği yenilikler  
D) Geometrik cisimler

19. Ayşe'yi sabahları okula babası otomobiliyle götürmektedir. Okul çıkışında ilk durağa kadar yürüyerek gitmekte ve otobüse binerek eve dönmektedir. Ödevini bitirdikten sonra apartmanın bahçesinde bisiklete binmektedir.

Buna göre Ayşe okula gidiş gelişte aşağıdakilerden hangisini yapmamaktadır?

- A) Otomobile binme B) Yürüme  
C) Otobüse binme D) Bisiklete binme

20. Aşağıdaki kişilerden hangisi trafik kurallarına uygun davranış göstermektedir?

- A) Sinem, servis sıcak olduğunda kolunu camdan çıkarır.  
B) Can, boş olduğunda caddede oyun oynar.  
C) Cem, eve giderken okul geçidini kullanır.  
D) Sibel, yaya kaldırımında bisiklet sürer.

21. – Yılan  
– Çekirge  
– Çimen  
– Atmaca  
– Fare

Yukarıdaki varlıklar arasındaki ilişkiye göre oluşan besin zincirinde çimenden sonra sırasıyla aşağıdakilerden hangisi yer alır?

- A) Çekirge → Fare → Yılan → Atmaca  
B) Fare → Yılan → Çekirge → Atmaca  
C) Yılan → Atmaca → Fare → Çekirge  
D) Atmaca → Fare → Yılan → Çekirge

22. Buse çok heyecanlıydı. En sevdiği arkadaşı Selin bu akşam onlarda kalacaktı. Buse banyoya arkadaşı için kendi diş macununu, diş ipini ve diş fırçasını  
1 2 3  
bıraktı.

Yukarıdaki paragrafta numaralandırılmış malzemelerden hangisini ya da hangilerini Buse'nin arkadaşıyla paylaşması uygun değildir?

- A) Yalnız 1 B) Yalnız 3  
C) 1 ve 2 D) 2 ve 3

23. Sordum bir gün .....  
Yok mu senin bir yuvan  
Vızıldayıp gösterdi  
Bana koca bir .....

Yukarıdaki dördlükte boş bırakılan yerlere getirilmesi gereken kelimeler aşağıdakilerden hangisidir?

- A) civcive – kümes B) ineğe – ahır  
C) arıya – kovan D) köpeğe – kulübe

**24. Aşağıdaki cümlelerin hangisinde sadece fiziksel özelliklerden söz edilmiştir?**

- A) Güzel gözlerindeki hırçın bakışlar ona hiç yakışmıyordu.
- B) Yaşadığı korku yüzünden rengi bembeyaz oldu.
- C) Küçük ayaklarıyla kapıdan giren annesine doğru heyecanla koştu.
- D) Sınıfımızdaki en uzun boylu öğrenci Derin.

**25. Aşağıdakilerden hangisi bilinçli tüketicinin göstermesi gereken bir davranıştır?**

- A) Ellerimizi yıkarken bizden sonraki arkadaşımızın kullanabilmesi için musluğu açık bırakmak
- B) Atık kâğıt kutusunda daha fazla kâğıt toplanması için gereksiz kâğıt kullanmak
- C) İstenilen bilgisayar oyununun alınması için harçlıktan para biriktirmek
- D) Son kullanım tarihi sadece bir gün geçmiş sütü indirimde olduğu için almak

**TEST BİTTİ.  
CEVAPLARINIZI KONTROL EDİNİZ.**

### SINAV SÜRESİNCE UYULACAK KURALLAR

- 1. Adaylar, sınav kurallarına ve salon görevlilerinin tüm uyarılarına uymak zorundadırlar. Kurallara ve uyarılara uymayan adayların sınavları geçersiz sayılacaktır.**
2. Sınav başladıktan sonra adayların salon görevlileri ve birbirleri ile konuşmaları, kalem, silgi vb. şeyleri istemeleri yasaktır.
3. Adaylar sınav süresince, sınav giriş belgesi ile birlikte kimlik belgelerinden birini (nüfus cüzdanı veya pasaport) masalarının üzerinde bulundurmamak zorundadırlar.
- 4. Sınav evraklarını teslim etmeyen, soru kitapçıklarının sayfalarından bir kısmını eksik teslim edenlerin sınavları geçersiz sayılacaktır.**

### SALON GÖREVLİLERİNCE SINAV BAŞLAMADAN ÖNCE ADAYLARA YAPILACAK SON UYARI

- Soracağınız bir şey var mı? Varsa, şimdi sorunuz.
- Sınav başladıktan sonra sorularınıza cevap verilmeyecektir.
- Başlama zilini bekleyiniz.
- Hepinize başarılar dileriz.

(Salon başkanı başlama ve bitiş saatini tahtaya yazacaktır.)

**Bu kitapçığın her hakkı saklıdır. Hangi amaçla olursa olsun, kitapçığın tamamının veya bir kısmının Millî Eğitim Bakanlığı Ölçme, Değerlendirme ve Sınav Hizmetleri Genel Müdürlüğünün yazılı izni olmadan kopya edilmesi, fotoğraflarının çekilmesi, bilgisayar ortamına alınması, herhangi bir yolla çoğaltılması, yayımlanması veya başka bir amaçla kullanılması yasaktır. Bu yasağa uymayanlar, doğabilecek cezai sorumluluğu ve kitapçığın hazırlanmasındaki mali külfeti peşinen kabullenmiş sayılır.**



**8 HAZİRAN 2014 TARİHİNDE YAPILAN TED ANKARA KOLEJİ VAKFI  
ÖZEL İLKOKULU VE ORTAOKULU SEÇME SINAVI  
4. SINIFLAR CEVAP ANAHTARI**

TÜRKÇE	MATEMATİK	HAYAT BİLGİSİ
1. C	1. B	1. A
2. A	2. C	2. B
3. D	3. D	3. A
4. B	4. D	4. C
5. C	5. B	5. C
6. A	6. A	6. B
7. D	7. D	7. D
8. B	8. A	8. D
9. C	9. D	9. B
10. D	10. C	10. A
11. C	11. D	11. B
12. A	12. D	12. D
13. B	13. B	13. A
14. B	14. C	14. C
15. D	15. C	15. D
16. A	16. A	16. D
17. A	17. D	17. A
18. D	18. B	18. B
19. C	19. B	19. D
20. B	20. C	20. C
21. A	21. A	21. A
22. D	22. A	22. B
23. B	23. B	23. C
24. C	24. A	24. D
25. B	25. C	25. C