

4.
SINIF



B
KİTAPÇIK TÜRÜ

T.C.
MİLLÎ EĞİTİM BAKANLIĞI
ÖLÇME, DEĞERLENDİRME VE SINAV HİZMETLERİ
GENEL MÜDÜRLÜĞÜ

TED ANKARA KOLEJİ VAKFI ÖZEL İLKOKULU VE ORTAOKULU SEÇME SINAVI
(3. Sınıftan 4. Sınıfa Geçenler)
4 HAZİRAN 2017 Saat: 10.00

Adayın Adı ve Soyadı :

Aday Numarası (T.C. No) :

DERS ADI	SORU SAYISI	TOPLAM SORU SAYISI	SINAV SÜRESİ (DAKİKA)
TÜRKÇE	20	80	80
MATEMATİK	20		
HAYAT BİLGİSİ	20		
FEN BİLİMLERİ	20		

ÖĞRENCİLERİN DİKKATİNE!

1. Sınıf öğrenci yoklama listesinde belirtilen sınıfta ve sıra numarasında oturunuz.
2. Cevap kâğıdındaki kimlik bilgilerinin doğruluğunu kontrol ediniz.
3. Kitapçık türünü cevap kâğıdındaki ilgili alana kodlayınız.
4. Cevap kâğıdı üzerindeki kodlamaları kurşun kalemle yapınız.

4. SINIF 2017

SINAV BAŞLAMADAN ÖNCE KİTAPÇIĞIN ARKA KAPAĞINDAKİ UYARILARI MUTLAKA OKUYUNUZ.

1. 1. oyuncak
2. oynamak
3. oyuncu
4. oyun

Numaralanmış kelimelerin sözlük sırasına göre dizilişi aşağıdakilerden hangisidir?

- | | |
|------------|------------|
| A) 2-4-1-3 | B) 2-3-4-1 |
| C) 4-3-1-2 | D) 4-2-1-3 |

2. Şule, arkadaşlarıyla bahçede kardan adam yaptı.

Bu cümlede aşağıdaki sorulardan hangisinin cevabı yoktur?

- | | |
|--------------|------------|
| A) Ne zaman? | B) Ne? |
| C) Kim? | D) Nerede? |

3. "Boş" kelimesi aşağıdaki cümlelerin hangisinde "bir işe yaramayan, yararsız" anlamında kullanılmıştır?

- A) Sabah boş zamanım olursa görüşebiliriz.
- B) Boş işlerle uğraşıp vakit harcamamalıyım.
- C) Salondaki boş bardakları mutfağa bıraktım.
- D) Yeni yolcular trenin boş vagonuna alındı.

4. Aşağıdaki cümlelerin hangisinde “olması, gerçekleşmesi çok yakın” anlamında bir söz kullanılmıştır?
- A) Bu işi yapacak, eli yatkın birini tanıyorum.
B) Biz sohbet ederken ansızın kapı çaldı.
C) Kaplumbağalar bahçede yavaş yavaş yürüyordu.
D) Siz şurada oturun, neredeyse gelir bizim usta.
5. Aşağıdaki cümlelerin hangisinde bir olay, nedeniyle birlikte verilmiştir?
- A) Günlerdir beklediğim maç, eve vardığımda çoktan başlamıştı.
B) Yıllar sonra ilkokul arkadaşlarıyla karşılaştı.
C) Düşünmeden söylediğim sözlerle kalbini kırdığım için özür dilerim.
D) Güvenlik görevlisini gökte ararken yerde bulduk.
6. Aşağıdaki cümlelerin hangisinde altı çizili kelime eş seslidir?
- A) Çok geçmeden odaya komşular dolmaya başladı.
B) Sazlarla bürünmüş dere kurumaya yüz tutmuştu.
C) Güneş yüzünü göstermiş, gündüz olmaya başlamıştı.
D) Son zamanlarda arazi otomobili kullanmak moda oldu.
7. Aşağıdaki cümlelerin hangisinde zıt anlamlı kelimeler bir arada kullanılmıştır?
- A) Ödünç aldığınız kitapları zamanında getirmelisiniz.
B) Masanın yan tarafından bakınca üstündeki bardağı göremedim.
C) Gecenin bu vaktinde ortalıkta hiç ses yoktu.
D) Kazanmak için çıktığımız bu maçı da kaybettik.

8. Aşağıdaki cümlelerin hangisinde karşılaştırma yapılmamıştır?

- A) Trafikte yaşanan yoğunluk nedeniyle eve geç kaldık.
- B) Bu sene yaz, geçen yıla göre sıcak geçiyor.
- C) Senin kadar düşünceli birini daha önce görmedim.
- D) Önceki günlerden farklı olarak işe arabamla gittim.

9. Aşağıdakilerden hangisi bir metnin giriş cümlesi olabilir?

- A) Tabi eski zamanlarda misafirlikler çok farklıydı.
- B) Bu sevimli martı da güneşin altın gibi parladığı bir kıyıda yaşıyordu.
- C) Sabahın erken vaktinde küçük bir çam ormanında ilerledik.
- D) Onu, size daha önce gösterdiğim şekilde boyayın.

10. (1) Erik ağacının dallarında ötüşen kuşlara baktım. (2) Kuşlar, kanatlarına ilkbahar mevsimini yükleyip sevinçle gelmişken küpe çiçeğim hâlâ uyuyordu. (3) Gidip küpe çiçeğimi daha büyük bir saksının içine koydum. (4) Toprağını değiştirip çiçek açması için suladım.

Bu metinde numaralanmış cümlelerin hangisinde hayalî unsurlara yer verilmiştir?

- A) 1.
- B) 2.
- C) 3.
- D) 4.

11. Bisiklet, önceleri sadece bir taşıt olarak kabul ediliyordu. Yaygınlaştıktan sonra ise bir spor aracı oldu. Bisiklet sporu yurdumuzda cumhuriyetle birlikte gelişmeye başlamış ve en yaygın sportif faaliyetlerden biri hâline gelmiştir. Hatta seyirci sayısı da günden güne artmaktadır. Her yıl Türkiye’de bisiklet yarışları yapıldığı gibi, bisikletçilerimiz uluslararası yarışmalara da katılmaktadır.

Bu metinden aşağıdakilerin hangisi çıkarılamaz?

- A) Ülkemizdeki bisikletçiler farklı ülkelerin bisikletçileriyle yarışmaktadır.
B) Bisiklet yarışları, ilgi gören bir spor olmuştur.
C) Bisiklet ilk zamanlarda ulaşım aracı olarak kullanılmıştır.
D) Bisikletçilerimiz, uluslararası bisiklet yarışlarında başarılı olmaktadır.

12. Pembe, koşulsuz sevmek ve sevgiyi büyütme demektir. Bu renk, sevgiyi ve merhameti temsil eder. Kırmızı ve beyazın birleşimi olan pembe, kırmızının hareketliliğini içermektedir. Baktıkça insanı rahatlatan ve enerjisini tazeleyen pembe, olumlu bir renktir.

Bu metinde “pembe renk” ile ilgili aşağıdakilerden hangisine değinilmemiştir?

- A) Hangi renklerden meydana geldiğine
B) Anlamının ne olduğuna
C) İnsanı sakinleştirdiğine
D) Diğer renklerden farkına

13. 1. bulutlar
2. gökyüzündeki
3. getirir
4. yağmur
5. kara

Numaralanmış kelimelerle anlamlı ve kurallı bir cümle oluşturulduğunda sıralama aşağıdakilerden hangisi olur?

- A) 2-4-5-3-1
B) 2-5-1-4-3
C) 4-1-2-5-3
D) 4-5-2-3-1

14. İlkokul ikinci sınıftayken Ömer Seyfettin okuduğum için çevremdekiler "Bu yaşta Ömer Seyfettin mi okunur?" derlerdi. Oysa benim gibi birçok çocuğun onun kitaplarını okuduğunu biliyorum. Öte yandan çocuk kitabı olarak bilinip de yetişkinler tarafından okunan kitaplar da var. Edmondo de Amicis'in "Çocuk Kalbi" romanı bunun en güzel örneğidir. Bu yüzden kitaplar ve yazarlar hakkında bu tür sınırlamalar yapmak çok doğru gelmiyor bana.

Bu metinde asıl anlatılmak istenen aşağıdakilerin hangisidir?

- A) Sevilen yazarlar daha çok okunur.
B) Kitap okuma alışkanlığı küçük yaşlarda kazandırılmalıdır.
C) Bazı kitaplar ve yazarlar her yaşta okunabilir.
D) İnsanlar ilk okudukları kitapları kolay kolay unutmaz.

15. 1. Geyikler arasındaki en hızlı geyikmiş bu.
2. Hatta öylesine hızlıymış ki ne bir av köpeği ne de bir yaban hayvanı yetişebilirmiş ardından.
3. Bir zamanlar ağaçların bulutlara kadar yükseldiği görkemli bir ormanda bir geyik yaşarmış.
4. Avcılar ise diğer hayvanların yakalayamadığı bu geyiği tuzağa düşürmeye çalışırmış.

Olayların oluş sırasına göre, numaralanmış cümleler nasıl sıralanmalıdır?

- A) 1-2-4-3
B) 1-3-2-4
C) 3-1-2-4
D) 3-4-1-2

16. Aşağıdakilerin hangisinde altı çizili sözcük bir varlığın kime ait olduğunu belirten bir ek almıştır?

- A) Pencere açılınca masadaki kâğıtlar etrafa uçtu.
B) Sabahın beşinde telefonum uzun uzun çaldı.
C) Kapıda uzun boylu bir çocuk seni bekliyordu.
D) Kurumaya başlayan çiçeği hemen suladı.

17. Aşağıdakilerin hangisinde altı çizili kelime bir ismin yerine kullanılmıştır?

- A) Yaşlı teyze her hafta ziyaretimize gelir.
B) Çiftçiler bu sıcak günde tarlada çalışıyordu.
C) Odadan gelen kötü koku misafirleri rahatsız etti.
D) Bir zamanlar buralar hep ağaçlıktı.

18. Aşağıdaki altı çizili kelimelerden hangisi kelime türeten bir ek almamıştır?
- A) Sitenin arkasındaki ağaçlık alanda çocuklar çadır kurdu.
B) Mermerci, mutfak tezgahını çok güzel yapmış.
C) Yillardır kullanılmayan bu depo havasız kalmıştı.
D) Köyün yolu geçen yaz yeniden asfaltlanmıştı.
19. Aşağıdakilerin hangisinde altı çizili kelimenin yazımı doğrudur?
- A) Kedimiz Ponçik pencere kenarında uyuyordu.
B) Asya ile avrupa bu tünelle birbirine bağlanır.
C) Bu gömleği geçen hafta bursadan aldım.
D) Kafesteki Papağan konuşmaya başladı.
20. Yeni doğan kardeşimin de gamzeleri var () Onun adını da mı Gamze koyacaksınız şimdi () Hangimize seslendiğinizi nasıl anlayacağız ()
- Bu metinde ayraçla gösterilen yerlere sırasıyla aşağıdaki noktalama işaretlerinden hangileri getirilmelidir?
- A) (.) (?) (.)
B) (.) (?) (?)
C) (.) (.) (?)
D) (?) (?) (.)

TÜRKÇE TESTİ BİTTİ.
MATEMATİK TESTİNE GEÇİNİZ.



1. Aşağıdakilerden hangisine simetri doğrusu çizilemez?

A) E

B) S

C) T

D) M

2.

$$\begin{array}{r} 4 \triangle 3 \\ \star 2 6 \\ + 1 \square 1 \\ \hline 9 0 0 \end{array}$$

Verilen toplama işleminde $\star, \triangle, \square$ birer rakamdır.

Buna göre $\star + \triangle + \square$ kaçtır?

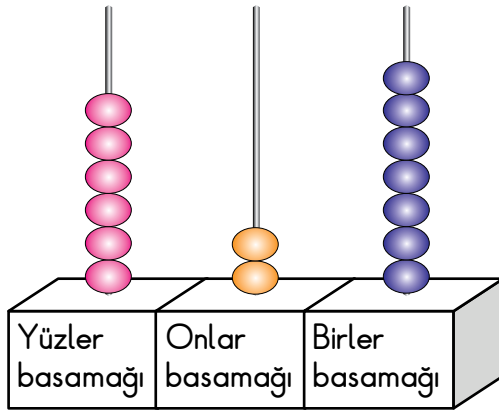
A) 8

B) 9

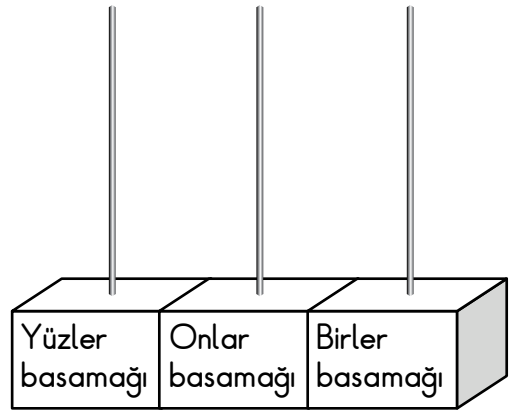
C) 10

D) 11

3.



1. Abaküs



2. Abaküs

Birinci abaküsün birler basamağından bir boncuk alınıyor. Bu boncuk ikinci abaküse takılarak en küçük üç basamaklı doğal sayı oluşturuluyor.

Bu iki abaküste oluşan sayılar arasındaki fark kaçtır?

A) 427

B) 517

C) 526

D) 616

4. Yağmur ve Umut eşit miktarda para vererek arkadaşlarına 50 liralık hediye almak istiyorlar. Yağmur, parasının eksik kalan kısmını tamamlamak için Umut'tan borç alıyor.

Yağmur'un 16 lirası olduğuna göre Umut'tan kaç lira borç almıştır?

- A) 9 B) 17 C) 25 D) 34

5.

$$\begin{array}{r} 535 \\ - 308 \\ \hline \end{array}$$

Kadir, verilen çıkarma işleminin sonucunu buluyor. Sevda ise işlemdeki sayıları en yakın onluğa yuvarladıktan sonra işlemi yapıyor.

Kadir ile Sevda'nın bulduğu sonuçlar arasındaki fark kaçtır?

- A) 2 B) 3 C) 4 D) 5

6. 520 sayısının birler ve onlar basamağındaki rakamların yerleri değiştiriliyor.

Oluşan üç basamaklı sayının okunuşu aşağıdakilerden hangisidir?

- A) İki yüz beş
B) Beş yüz iki
C) İki yüz elli
D) Beş yüz yirmi iki

7. 1, 3, 8 rakamları birer kez kullanılarak yazılan en büyük çift doğal sayı kaçtır?

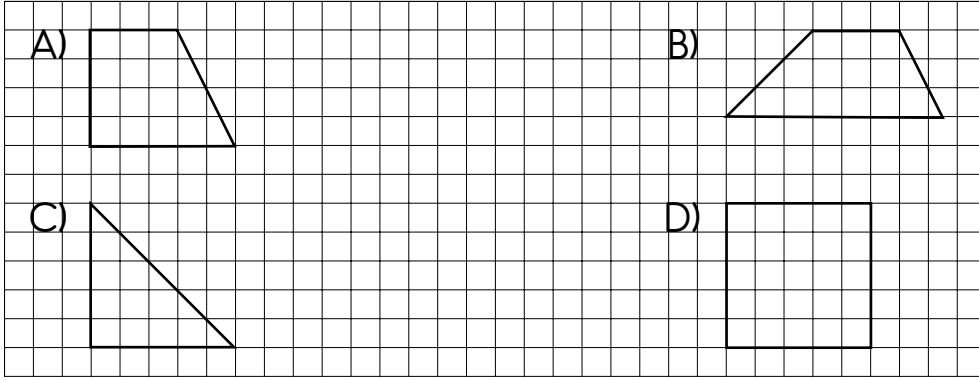
A) 138

B) 318

C) 813

D) 831

8. Aşağıdaki düzlemsel şekillerden hangisinin bütün açıları dik açıdır?



9.

$$\begin{array}{r} A4 \\ \times 19 \\ \hline 306 \\ + A4 \\ \hline B46 \end{array}$$

Verilen çarpma işleminde A ve B birer rakamdır.

Buna göre $A \times B$ kaçtır?

A) 18

B) 27

C) 28

D) 36

10. Emel, Arda ve Zeynep'in eşit miktarda paraları vardır. Emel parasının $\frac{6}{8}$ 'sini, Arda $\frac{4}{8}$ 'ünü, Zeynep $\frac{5}{8}$ 'ini harcamıştır.

Buna göre aşağıdaki ifadelerden hangisi doğrudur?

- A) En çok parayı Zeynep harcamıştır.
B) En az parayı Emel harcamıştır.
C) Emel Zeynep'ten daha az para harcamıştır.
D) Zeynep Arda'dan daha fazla para harcamıştır.

11. A7C üç basamaklı bir doğal sayıdır.

A ve C'nin basamak değerleri farkı 300 olduğuna göre $A \times C$ kaçtır?

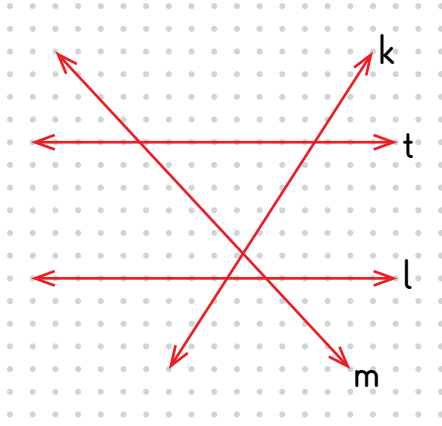
- A) 0 B) 3 C) 4 D) 5

12. Saat 09.00'da çalışmaya başlayan bir işçi, 45 dakika çalışıp 10 dakika mola veriyor.

Bu şekilde çalışmaya devam ederse ikinci molayı saat kaçta verir?

- A) 10.30 B) 10.40 C) 10.50 D) 11.00

13.



Şekle göre hangi doğrular paraleldir?

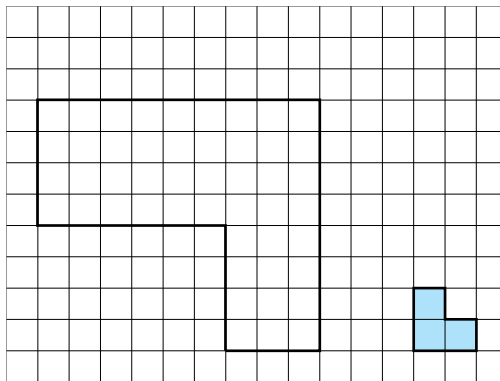
- A) l ve m B) m ve t C) k ve t D) t ve l

14. Zübeyde 80 lirasının 8 lirasını kardeşine veriyor. Kalan parasının $\frac{1}{6}$ 'i ile kitap alıyor.

Zübeyde'nin geriye kaç lirası kalmıştır?

- A) 55 B) 59 C) 60 D) 68

15.



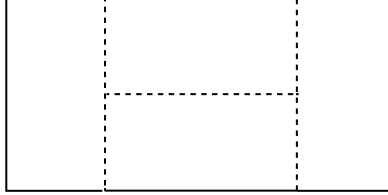
Kareli zemindeki şekil, mavi boyalı şekillerden en az kaç tanesi ile kaplanabilir?

- A) 16 B) 18 C) 20 D) 22

16. Bir terzi ceket için 3 m 45 cm, pantolon için 2 m 76 cm kumaş kullanıyor. Bu terzi toplam kaç metre kaç santimetre kumaş kullanmıştır?

- A) 5 m 21 cm B) 5 m 95 cm
C) 6 m 21 cm D) 7 m 76 cm

17.



Şekildeki büyük dikdörtgen kesik çizgilerle dört eş dikdörtgene ayrılmıştır. Bu eş dikdörtgenlerden birinin kenar uzunlukları 5 cm ve 10 cm'dir.

Buna göre büyük dikdörtgenin çevresi kaç santimetredir?

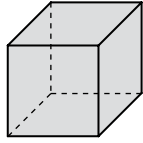
- A) 30 B) 60 C) 90 D) 120
18. Onur bir hikâye kitabını her gün 24 sayfa okuyarak bir haftada bitirebilecektir. Dördüncü günün sonunda kitapta okunması gereken kaç sayfa kalmıştır?
- A) 48 B) 60 C) 72 D) 96

19. Bir tatlıcıda tatlıların porsiyon fiyatı 7 liradır. Sabah satışa başlamadan önce kasada 487 lira bulunmaktadır. Kasadaki para bir saat sonra 571 lira olmuştur.

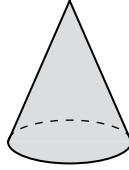
Buna göre bir saat içinde kaç porsiyon tatlı satılmıştır?

- A) 12 B) 13 C) 14 D) 15

20.



Küp



Koni



Silindir

Aşağıdaki düzlemsel şekillerden hangisi, verilen geometrik cisimlerin hiçbirinin açınımında yoktur?

- A) Karesel bölge B) Daire
C) Dikdörtgensel bölge D) Üçgensel bölge

MATEMATİK TESTİ BİTTİ.
HAYAT BİLGİSİ TESTİNE GEÇİNİZ.



1. Hava durumu tahminlerini yapan kurum aşağıdakilerden hangisidir?






- A) TÜBİTAK
- B) Türkiye İstatistik Kurumu
- C) Meteoroloji Genel Müdürlüğü
- D) Devlet Su İşleri Genel Müdürlüğü

2. Buğday, ekme olup tarladan soframıza gelene kadar çeşitli aşamalardan geçer.

Aşağıdaki mesleklerden hangisinin bu sürece katkısı yoktur?

- A) Manav
- B) Fırıncı
- C) Bakkal
- D) Çiftçi

3. Pelin ve arkadaşları açık ve güneşli bir günde piknik yapmak için beş günlük hava tahmin raporunu inceliyorlar.

Pazartesi	Salı	Çarşamba	Perşembe	Cuma
				

Buna göre hangi gün pikniğe gitmelidirler?

- A) Salı
- B) Çarşamba
- C) Perşembe
- D) Cuma

4.

GEREKSİZ
LAMBALARI
SÖNDÜRELİM.

BULAŞIK
MAKİNELERİNİ
TAM DOLMADAN
ÇALIŞTIRMAYALIM.

EVİ GEREKTİĞİ
KADAR ISITILIM.

Bu afişler aşağıdaki haftalardan hangisi için hazırlanmıştır?

- A) Yeşilay Haftası
B) İlköğretim Haftası
C) İnsan Hakları Haftası
D) Enerji Tasarrufu Haftası

5. Mustafa'nın yaşadığı mahallede sağanak yağışlar derenin taşmasına, can ve mal kaybının yaşanmasına yol açmıştır.

Mustafa'nın, bu olayla ilgili aşağıdakilerden hangisini söylemesi beklenmez?

- A) Birçok iş yeri sular altında kaldı.
B) Evimizde bütün eşyalar su içindeydi.
C) Sular arabaları sürükleyerek götürdü.
D) Arkadaşlarımla sulara yüzerken çok eğlendik.

6. Aşağıdakilerden hangisi işitsel iletişim aracıdır?



- A) Radyo
B) Mektup
C) Faks
D) Gazete

7. Deprem sırasında binanın içindeyseniz aşağıdakilerden hangisini yapmamalıyız?

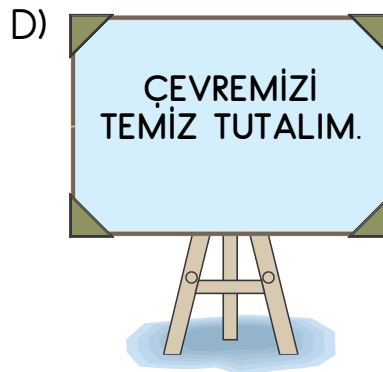
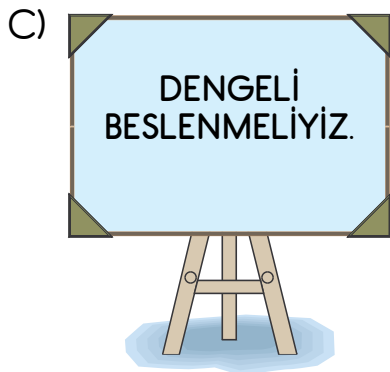
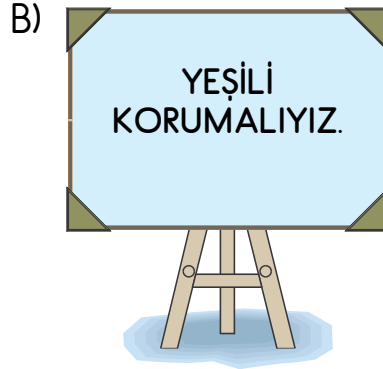
- A) Balkonlardan uzak durmalıyız.
B) Merdivenlerden koşarak aşağı inmeliyiz.
C) Sarsıntı bitene kadar binanın içinde kalmalıyız.
D) Sabitlenmiş eşyaların yanına, başımızı koruyarak çömelmeliyiz.

8. Yön bulmak için kullanılan yöntem ve araçlarla ilgili aşağıdaki bilgilerden hangisi yanlıştır?
- A) Kutup yıldızı kuzeyi gösterir.
B) Pusulanın renkli ucu kuzeyi gösterir.
C) Ağaç ve taşların yosunlu kısmı güneyi gösterir.
D) Karınca yuvalarının ağız kısmı güneyi gösterir.
9. Okulunun kuş bakışı görünümünü kabataslak yani ölçeksiz olarak kâğıt üzerine çizen öğrencinin bu çalışmasına ne ad verilir?
- A) Harita B) Kroki C) Resim D) Plan
10. Kollarımızı iki yana açtığımızda sağ kolumuz Güneş'in doğduğu yöne doğru uzanıyorsa arkamız hangi yönü gösterir?
- A) Doğu B) Batı C) Kuzey D) Güney
11. Ülkemize hizmet edecek bilim insanlarının yetişmesi için aşağıdakilerden hangisine daha çok önem verilmelidir?
- A) Turizme B) Eğitime
C) Ticarete D) Sanata

12. Aşağıdaki ülke bayraklarından hangisi Türk bayrağına benziyor?



13. Aşağıdaki panolardan hangisi Yeşilay'a ait olabilir?



14. 29 Ekim tarihini niçin bayram olarak kutluyoruz?

- A) Atatürk Samsun'a çıktığı için
- B) Büyük Millet Meclisi açıldığı için
- C) Sakarya Savaşı kazanıldığı için
- D) Cumhuriyet ilan edildiği için

15. 1. Yardım eden kişiye teşekkür etmek
2. Yaşlıları ziyaret etmek
3. Arkadaşlarımızı kıskanmak

Yukarıdaki davranışlardan hangisi, çevremizle olan ilişkilerimizi olumlu etkiler?

- A) Yalnız 1
- B) Yalnız 2
- C) 1 ve 2.
- D) 2 ve 3.

16. Ülkemizde millî egemenliğe dayalı yönetim şekli, aşağıdakilerden hangisi ile başlamıştır?

- A) Mondros Ateşkes Antlaşması'nın imzalanması
- B) Atatürk'ün, Bandırma vapuru ile Samsun'a çıkması
- C) Türkiye Büyük Millet Meclisinin açılması
- D) Amasya Genelgesi'nin yayımlanması

17. Atatürk, cumhuriyeti öncelikle kimlere emanet etmiştir?

- A) Öğretmenlere
- B) Askerlere
- C) Doktorlara
- D) Gençlere

18. Atatürk Kurtuluş Savaşı'nı hangi şehirden başlatmıştır?

- A) İstanbul
C) Ankara

- B) Samsun
D) Erzurum

19. Aşağıdaki yeniliklerden hangisiyle Türk milletinin devlet yönetimine katılması amaçlanmıştır?

- A) Her aileye bir soyadı verilmesiyle
B) Kılık kıyafette yenilik yapılmasıyla
C) Herkese seçme ve seçilme hakkı tanınmasıyla
D) Yeni Türk harflerinin kabul edilmesiyle

20. Mustafa Kemal İstanbul Harp Akademisi'ni hangi rütbe ile bitirmiştir?

- A) Teğmen
C) Yarbay


- B) Binbaşı
D) Kurmay Yüzbaşı

HAYAT BİLGİSİ TESTİ BİTTİ.
FEN BİLİMLERİ TESTİNE GEÇİNİZ.



3. Şekilde iki canlı gösterilmiştir.

Aşağıdakilerden hangisi
bu canlıların ortak
özelliklerinden değildir?



A) Solunum yapma

B) Yer değiştirebilme

C) Boşaltım yapma

D) Büyüyüp gelişme

4. • Bardağı tutunca içindeki sütün çok sıcak olduğunu anladım.
• Yere çıplak ayakla basınca çakıl taşları ayağıma battı.

Verilen ifadelerde hangi duyu organının faaliyetleri anlatılmıştır?

A) Göz

B) Deri

C) Dil

D) Kulak

5. • Soğuktan korumalıyız.
• Sivri uçlu cisimlerle karıştırmamalıyız.
• Çok gürültülü ortamlardan uzak durmalıyız.

Yukarıda verilenler hangi duyu organımızın sağlığını korumak için gereklidir?

A) Göz

B) Burun

C) Kulak

D) Deri

6. Öğrenciler sınıfta duyu organlarının görevleri ile ilgili deney yapıyorlar. Bunun için şekilde verilen malzemeleri kullanıyorlar. Gözlemlerini şekillerin altına yazıyorlar.



Bu gözlem sonuçlarına, aşağıdakilerin hangisinde verilen duyu organlarının tamamını kullanarak ulaşmışlardır?

- A) Dil, burun ve kulak
B) Kulak, göz ve burun
C) Burun, kulak ve deri
D) Göz, deri ve dil
7. Mehmet, çevresindeki varlıklardan birinin özelliklerini anlatmıştır.



Bu varlık aşağıdakilerden hangisidir?

- A) Odasındaki oyuncak araba
B) Mehmet'in küçük kardeşi
C) Bahçedeki elma ağacı
D) Evde beslediği kedi

8. Ayşe ve ailesi tatile giderken orman kenarındaki bir yoldan geçtiler. Orman içindeki gölün kenarında biraz oturup dinlendiler. Ormandan biraz uzaklaştıktan sonra çeşitli bitki ve hayvanların bulunduğu bir çiftliği gezdiler.

Ayşe'nin tatile giderken çevresinde gördükleri ile ilgili olarak aşağıdakilerden hangisi doğrudur?

- A) Gördüğü yapay çevrede sadece bitkiler yaşamaktadır.
B) Gördüğü doğal çevrede sadece hayvanlar yaşamaktadır.
C) Orman kenarındaki yol ve çiftlik doğal çevredir.
D) Orman ve göl doğal çevredir.
9. Mert'in bardağa koyduğu - ● - bir süre sonra eridi. Mert bu bardağı eline alınca bardak elinden kayıp yere düştü. İçindeki - ★ - etrafa yayılıp yerleri ıslattı.

Bu olayda ● ve ★ yerine aşağıdakilerin hangisinde verilenler yazılmalıdır?

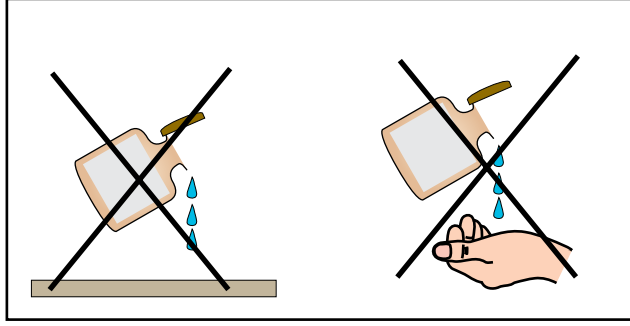
	●	★
A)	Buz	Su
B)	Buz	Buz
C)	Su	Buz
D)	Su	Su

10. Sünger ve lastik top esnek maddelere örnektir.

Buna göre aşağıdakilerden hangisi esnek maddelerin özelliğidir?

- A) Sıkıştırılıp bırakıldığında eski şekline döner.
B) Çok sert olup yere düşünce kırılır.
C) Yüzeyleri çok pürüzlüdür.
D) Renksiz ve kokusuzdur.


11. İçinde sıvı madde bulunan bir şişenin üzerinde şekildeki işaret vardır.



Bu sıvı madde ile ilgili olarak aşağıdakilerden hangisi doğrudur?

- A) Yalnızca el temizliğinde kullanılmalıdır.
- B) Koklanabilir ancak tadına bakılmamalıdır.
- C) Hiçbir yere dökülmemeli ve dokunulmamalıdır.
- D) Hem el hem de yerlerin temizliğinde kullanılmalıdır.


12. Şekilde bazı ses kaynakları verilmiştir.



Bunlardan hangileri doğal ses kaynağıdır?

- A) 1 ve 2.
- B) 2 ve 3.
- C) 1 ve 4.
- D) 3 ve 4.

13. Bir öğrenci şekildeki gibi, okulun bahçesinden merdivene doğru yaklaştıkça aynı şekilde çalan zilin sesini daha şiddetli duyuyor.




Merdivene yaklaştıkça zil sesinin daha şiddetli duyulmasını aşağıdakilerden hangisi açıklar?

- A) Ses her yöne yayılır.
 B) Ses kaynağına olan uzaklık azalmıştır.
 C) Ses şiddeti aynı olduğunda daha iyi duyulur.
 D) Ses kaynağından çıkan sesin şiddeti artmıştır.
14. • Bir varlık ışık kaynağı ise kendi ışığı ile aydınlanır, - - I - - gibi.
 • Bir varlık ışık kaynağı değilse ışık kaynağından aldığı ışıkla aydınlanır, - - II - - gibi.

Bu cümlelerdeki boşluklara aşağıdakilerin hangisinde verilenler yazılmalıdır?

	I	II
A)	meşale	güneş
B)	ay	kitap
C)	güneş	ay
D)	mum	yıldız

15. Şekildeki kartlarda bazı ışık kaynakları verilmiştir.



Bunlardan hangileri doğal ışık kaynağıdır?

- A) 1 ve 3. B) 2 ve 4. C) 1, 3 ve 5. D) 2, 4 ve 5.

16. Öğrenciler, elektrik çarpmasını önlemek için düşüncelerini söylüyorlar.

Elektrik tellerinin olduğu yerlerde uçurtma uçurulmamalıdır.



Arda

Elektrikli araçlar ıslak zeminlerde kullanılmalıdır.



Damla

Yıpranmış elektrik kabloları yenileri ile değiştirilmelidir.

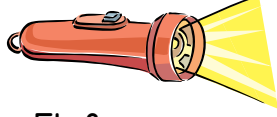


Yasemin

Bu öğrencilerden hangilerinin önerileri doğrudur?

- A) Yalnız Arda B) Arda ve Damla
C) Damla ve Yasemin D) Yasemin ve Arda

17. Şekildeki el feneri bir pille çalışır. Akülü araba ise bir pille çalıştırılmayıp batarya ile çalışır. Çünkü - - - -




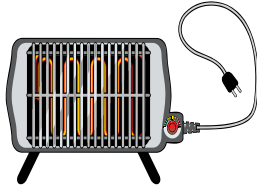

El feneri



Akülü araba

Verilen ifadeyi aşağıdakilerden hangisi tamamlar?

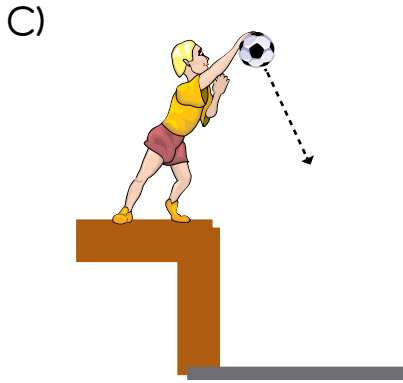
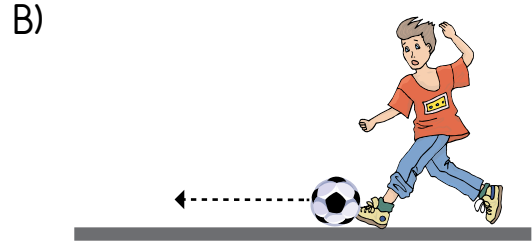
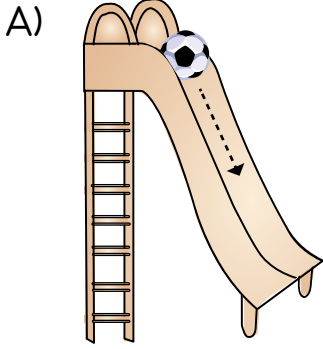
- A) pil, akülü arabanın içine sığmaz.
 B) akülü araba yalnızca şehir elektriğiyle çalışır.
 C) daha ucuz olduğu için akülü arabada batarya kullanılır.
 D) pilin enerjisi akülü arabayı çalıştırmak için yeterli değildir.
18. Şekilde verilen elektrikli araçlar kullanım amacına göre iki gruba ayrılacaktır.




Bu gruplar aşağıdakilerin hangisinde verilmiştir?

- A) Isınmada kullanılanlar - Temizlikte kullanılanlar
 B) Temizlikte kullanılanlar - Aydınlatmada kullanılanlar
 C) Haberleşmede kullanılanlar - Isınmada kullanılanlar
 D) Aydınlatmada kullanılanlar - Haberleşmede kullanılanlar

19. Aşağıdaki durumların hangisinde futbol topunun ok yönündeki hareketi engellenmiştir?



20. Ali ve Mehmet içinde meyve bulunan kutuyu taşımaktadır.



Ali ve Mehmet'in hareketi için aşağıdakilerden hangisi doğrudur?

- A) Her ikisi de itme
- B) Her ikisi de çekme
- C) Ali'nin itme, Mehmet'in çekme
- D) Ali'nin çekme, Mehmet'in itme

TEST BİTTİ.
CEVAPLARINIZI KONTROL EDİNİZ.



SINAV BAŞLAMADAN AŞAĞIDAKİ UYARILARI MUTLAKA OKUYUNUZ!

1. Öğrenciler, sınav kurallarına ve salon görevlilerinin tüm uyarılarına uymak zorundadırlar.
2. Cevap kâğıdındaki kimlik bilgilerinin doğruluğunu kontrol ediniz. Bilgiler size ait değilse veya cevap kâğıdı kullanılmayacak durumdaysa sınav görevlilerine bildirin.
3. Sınav başladıktan sonra öğrencilerin salon görevlileri ve birbirleri ile konuşmaları, kalem, silgi vb. şeyleri istemeleri yasaktır.
4. Değiştirmek istediğiniz bir cevabı, yumuşak silgiyle cevap kâğıdını yıpratmadan temizce siliniz ve yeni cevabınızı kodlayınız.
5. Cevap kâğıdınızı silinmeyen bir kalemle imzalayınız.
6. Cevaplarınızı, cevap kâğıdındaki ilgili soru numarasını dikkate alarak yuvarlağın dışına taşırmadan kodlayınız.
7. Soru kitapçığının sayfalarını kontrol ediniz, baskı hatası var ise değiştirilmesini sağlayınız.
8. Soru kitapçığı üzerinde yapılp cevap kâğıdına işaretlenmeyen cevaplar değerlendirmeye alınmayacaktır.
9. Soru kitapçığının içindeki boş alanları çözümlerinizi için kullanabilirsiniz.
10. Cevaplamaya istediğiniz sorudan başlayabilirsiniz.
11. Cevabını bilmediğiniz sorular üzerinde fazla zaman kaybetmeden diğer sorulara geçiniz. Zamanınız kalırsa bu sorulara daha sonra dönebilirsiniz.
12. Sınav puanınızın hesaplanmasında 3 yanlış 1 doğru cevabınızı götürecektir. Alt testler bu şekilde hesaplanarak net puanlarının toplamı toplam net puanınızı verecektir.
13. Sınav bitiminde, soru kitapçığı ve cevap kâğıdını salon görevlilerine teslim ediniz.
14. Sınav sırasında çanta, cep telefonu, saat, kablosuz iletişim sağlayan cihazlar ve kulaklık, kolye, küpe, bilezik, yüzük, broş ve benzeri eşyalar ile her türlü elektronik ve/veya mekanik cihazları yanınızda bulundurmuyunuz. Bu araçları yanınızda bulundurmanız ve kopya çekmeye teşebbüs etmeniz hâlinde sınavınız geçersiz sayılacaktır.
15. Cevap kâğıdınızı sınav süresince hiçbir öğrencinin göremeyeceği şekilde önünüzde bulundurunuz.
16. Sınavınızın değerlendirilmesi aşamasında, toplu kopya tespiti veya başka adayın sınav evrakını kullanmanız durumunda sınavınız geçersiz sayılacaktır.
17. Soruları ve sorulara verdiğiniz cevapları kaydetmeyiniz, hiçbir şekilde dışarı çıkarmayınız.
18. İlk 15 dakika dışarı çıkılmayacaktır.
19. Sınav evraklarını teslim etmeyenlerin sınavı geçersiz sayılacaktır.

SINAV GÖREVLİLERİNCE SINAV BAŞLAMADAN ÖNCE ÖĞRENCİLERE YAPILACAK SON UYARI!

- Soracağınız bir şey var mı? Varsa, şimdi sorunuz.
- Sınav başladıktan sonra sorularınıza cevap verilmeyecektir.
- Başlama zilini bekleyiniz.

Hepinize başarılar dileriz.

(Sınav görevlisi başlama ve bitiş saatini tahtaya yazacaktır.)

Bu kitapçığın her hakkı saklıdır. Hangi amaçla olursa olsun, kitapçığın tamamının veya bir kısmının Millî Eğitim Bakanlığı Ölçme, Değerlendirme ve Sınav Hizmetleri Genel Müdürlüğünün yazılı izni olmadan kopya edilmesi, fotoğraflarının çekilmesi, bilgisayar ortamına alınması, herhangi bir yolla çoğaltılması, yayımlanması veya başka bir amaçla kullanılması yasaktır. Bu yasağa uymayanlar, doğabilecek cezai sorumluluğu ve kitapçığın hazırlanmasındaki mali külfeti peşinen kabullenmiş sayılır.

**4 HAZİRAN 2017 TARİHİNDE YAPILAN TED ANKARA KOLEJİ VAKFI
ÖZEL İLKOKULU VE ORTAOKULU SEÇME SINAVI
4. SINIFLAR "B" KİTAPÇIĞI CEVAP ANAHTARI**

TÜRKÇE	MATEMATİK	HAYAT BİLGİSİ	FEN BİLİMLERİ
1. A	1. B	1. C	1. A
2. A	2. C	2. A	2. B
3. B	3. C	3. C	3. B
4. D	4. A	4. D	4. B
5. C	5. B	5. D	5. C
6. B	6. B	6. A	6. D
7. D	7. B	7. B	7. A
8. A	8. D	8. C	8. D
9. C	9. A	9. B	9. A
10. B	10. D	10. D	10. A
11. D	11. A	11. B	11. C
12. D	12. B	12. A	12. C
13. B	13. D	13. A	13. B
14. C	14. C	14. D	14. C
15. C	15. A	15. C	15. B
16. B	16. C	16. C	16. D
17. D	17. B	17. D	17. D
18. D	18. C	18. B	18. A
19. A	19. A	19. C	19. D
20. B	20. D	20. D	20. C